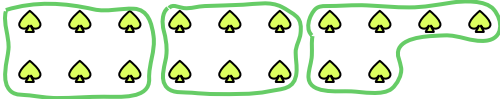




Utilisez les formes pour répondre aux questions.

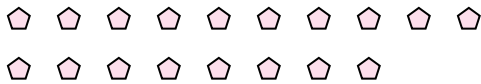
Ex) Combien de groupes de 6 pouvez-vous faire avec les 18 formes ci-dessous?



1) Combien de groupes de 6 pouvez-vous faire avec les 30 formes ci-dessous?




2) Combien de groupes de 9 pouvez-vous faire avec les 18 formes ci-dessous?




3) Combien de groupes de 4 pouvez-vous faire avec les 20 formes ci-dessous?



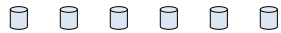
4) Combien de groupes de 5 pouvez-vous faire avec les 35 formes ci-dessous?



5) Combien de groupes de 6 pouvez-vous faire avec les 30 formes ci-dessous?



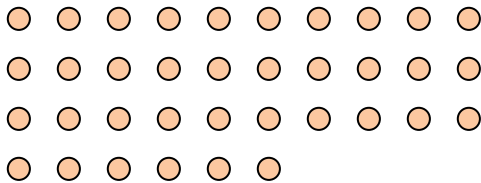
6) Combien de groupes de 2 pouvez-vous faire avec les 6 formes ci-dessous?



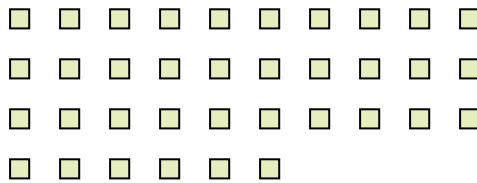
7) Combien de groupes de 7 pouvez-vous faire avec les 14 formes ci-dessous?




8) Combien de groupes de 9 pouvez-vous faire avec les 36 formes ci-dessous?



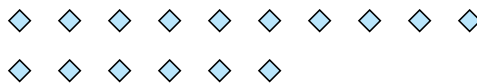
9) Combien de groupes de 9 pouvez-vous faire avec les 36 formes ci-dessous?



10) Combien de groupes de 2 pouvez-vous faire avec les 38 formes ci-dessous?



11) Combien de groupes de 8 pouvez-vous faire avec les 16 formes ci-dessous?



Réponses

Ex. 3

1. _____

2. _____

3. _____

4. _____

5. _____

6. _____

7. _____

8. _____

9. _____

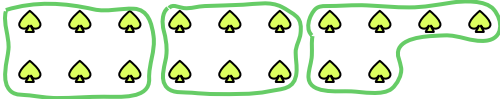
10. _____

11. _____



Utilisez les formes pour répondre aux questions.

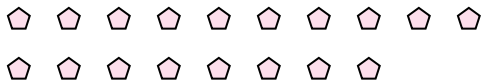
Ex) Combien de groupes de 6 pouvez-vous faire avec les 18 formes ci-dessous?



1) Combien de groupes de 6 pouvez-vous faire avec les 30 formes ci-dessous?




2) Combien de groupes de 9 pouvez-vous faire avec les 18 formes ci-dessous?




3) Combien de groupes de 4 pouvez-vous faire avec les 20 formes ci-dessous?



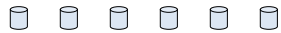
4) Combien de groupes de 5 pouvez-vous faire avec les 35 formes ci-dessous?



5) Combien de groupes de 6 pouvez-vous faire avec les 30 formes ci-dessous?



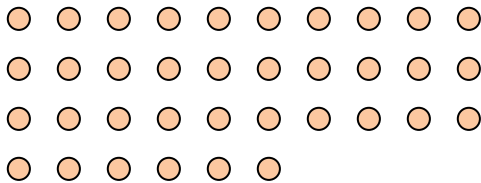
6) Combien de groupes de 2 pouvez-vous faire avec les 6 formes ci-dessous?



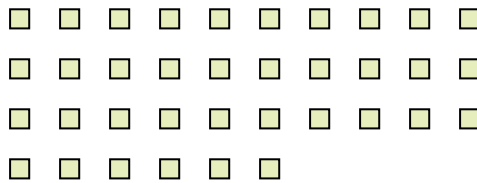
7) Combien de groupes de 7 pouvez-vous faire avec les 14 formes ci-dessous?




8) Combien de groupes de 9 pouvez-vous faire avec les 36 formes ci-dessous?



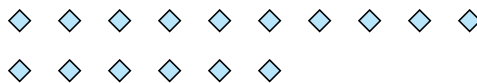
9) Combien de groupes de 9 pouvez-vous faire avec les 36 formes ci-dessous?



10) Combien de groupes de 2 pouvez-vous faire avec les 38 formes ci-dessous?



11) Combien de groupes de 8 pouvez-vous faire avec les 16 formes ci-dessous?



Réponses

Ex. 3

1. 5

2. 2

3. 5

4. 7

5. 5

6. 3

7. 2

8. 4

9. 4

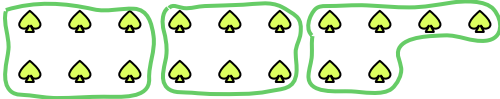
10. 19

11. 2



Utilisez les formes pour répondre aux questions.

Ex) Combien de groupes de 6 pouvez-vous faire avec les 18 formes ci-dessous?



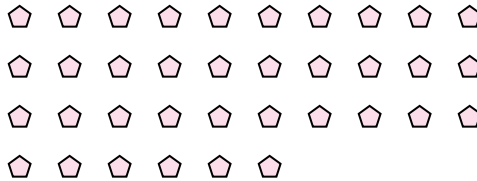
1) Combien de groupes de 6 pouvez-vous faire avec les 24 formes ci-dessous?



2) Combien de groupes de 3 pouvez-vous faire avec les 9 formes ci-dessous?



3) Combien de groupes de 9 pouvez-vous faire avec les 36 formes ci-dessous?



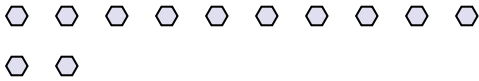
4) Combien de groupes de 2 pouvez-vous faire avec les 38 formes ci-dessous?




5) Combien de groupes de 9 pouvez-vous faire avec les 36 formes ci-dessous?



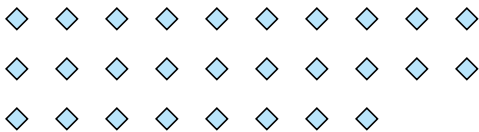
6) Combien de groupes de 6 pouvez-vous faire avec les 12 formes ci-dessous?




7) Combien de groupes de 2 pouvez-vous faire avec les 8 formes ci-dessous?



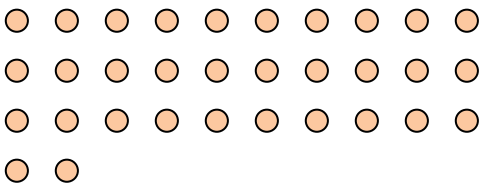
8) Combien de groupes de 7 pouvez-vous faire avec les 28 formes ci-dessous?




9) Combien de groupes de 6 pouvez-vous faire avec les 36 formes ci-dessous?



10) Combien de groupes de 4 pouvez-vous faire avec les 32 formes ci-dessous?



11) Combien de groupes de 6 pouvez-vous faire avec les 36 formes ci-dessous?



Réponses

Ex. 3

1. _____

2. _____

3. _____

4. _____

5. _____

6. _____

7. _____

8. _____

9. _____

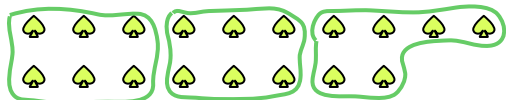
10. _____

11. _____



Utilisez les formes pour répondre aux questions.

Ex) Combien de groupes de 6 pouvez-vous faire avec les 18 formes ci-dessous?



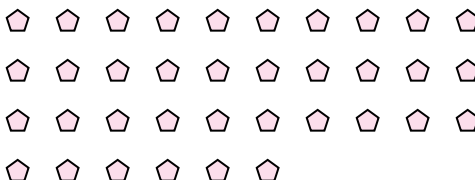
1) Combien de groupes de 6 pouvez-vous faire avec les 24 formes ci-dessous?



2) Combien de groupes de 3 pouvez-vous faire avec les 9 formes ci-dessous?



3) Combien de groupes de 9 pouvez-vous faire avec les 36 formes ci-dessous?



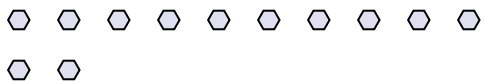
4) Combien de groupes de 2 pouvez-vous faire avec les 38 formes ci-dessous?




5) Combien de groupes de 9 pouvez-vous faire avec les 36 formes ci-dessous?



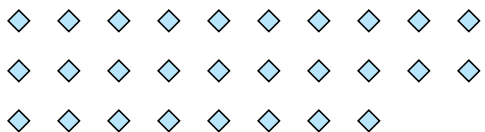
6) Combien de groupes de 6 pouvez-vous faire avec les 12 formes ci-dessous?




7) Combien de groupes de 2 pouvez-vous faire avec les 8 formes ci-dessous?



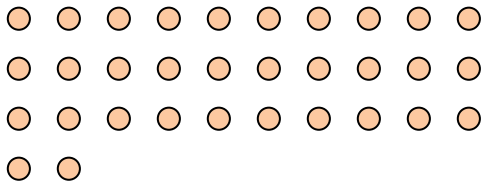
8) Combien de groupes de 7 pouvez-vous faire avec les 28 formes ci-dessous?




9) Combien de groupes de 6 pouvez-vous faire avec les 36 formes ci-dessous?



10) Combien de groupes de 4 pouvez-vous faire avec les 32 formes ci-dessous?



11) Combien de groupes de 6 pouvez-vous faire avec les 36 formes ci-dessous?



Réponses

Ex. 3

1. 4

2. 3

3. 4

4. 19

5. 4

6. 2

7. 4

8. 4

9. 6

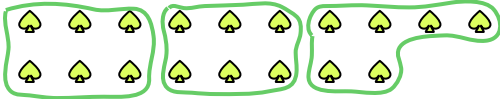
10. 8

11. 6




Utilisez les formes pour répondre aux questions.

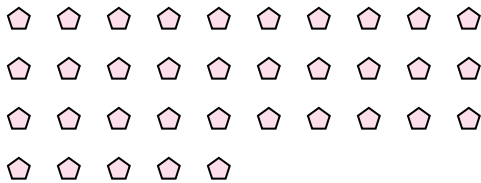
Ex) Combien de groupes de 6 pouvez-vous faire avec les 18 formes ci-dessous?



1) Combien de groupes de 8 pouvez-vous faire avec les 32 formes ci-dessous?



2) Combien de groupes de 7 pouvez-vous faire avec les 35 formes ci-dessous?



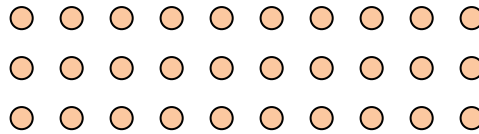
3) Combien de groupes de 3 pouvez-vous faire avec les 9 formes ci-dessous?



4) Combien de groupes de 5 pouvez-vous faire avec les 10 formes ci-dessous?



5) Combien de groupes de 3 pouvez-vous faire avec les 30 formes ci-dessous?



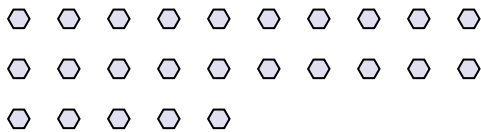
6) Combien de groupes de 6 pouvez-vous faire avec les 18 formes ci-dessous?




7) Combien de groupes de 4 pouvez-vous faire avec les 20 formes ci-dessous?



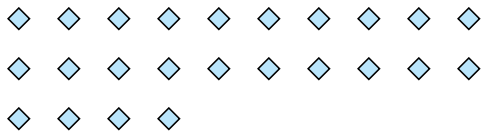
8) Combien de groupes de 5 pouvez-vous faire avec les 25 formes ci-dessous?



9) Combien de groupes de 3 pouvez-vous faire avec les 18 formes ci-dessous?



10) Combien de groupes de 2 pouvez-vous faire avec les 24 formes ci-dessous?



11) Combien de groupes de 6 pouvez-vous faire avec les 36 formes ci-dessous?



Réponses

Ex. 3

1. 4

2. 5

3. 3

4. 2

5. 10

6. 3

7. 5

8. 5

9. 6

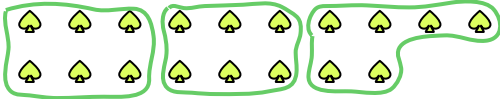
10. 12

11. 6

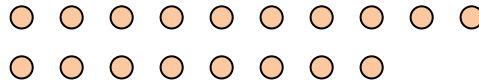


Utilisez les formes pour répondre aux questions.

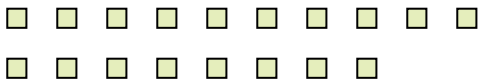
Ex) Combien de groupes de 6 pouvez-vous faire avec les 18 formes ci-dessous?



1) Combien de groupes de 9 pouvez-vous faire avec les 18 formes ci-dessous?



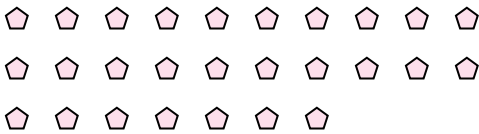
2) Combien de groupes de 2 pouvez-vous faire avec les 18 formes ci-dessous?




3) Combien de groupes de 9 pouvez-vous faire avec les 18 formes ci-dessous?



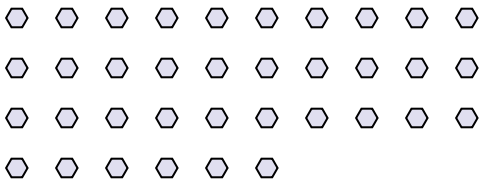
4) Combien de groupes de 9 pouvez-vous faire avec les 27 formes ci-dessous?




5) Combien de groupes de 4 pouvez-vous faire avec les 24 formes ci-dessous?



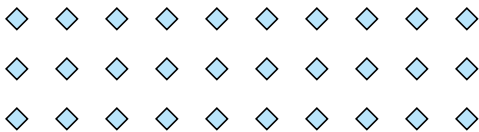
6) Combien de groupes de 6 pouvez-vous faire avec les 36 formes ci-dessous?




7) Combien de groupes de 7 pouvez-vous faire avec les 28 formes ci-dessous?



8) Combien de groupes de 5 pouvez-vous faire avec les 30 formes ci-dessous?




9) Combien de groupes de 5 pouvez-vous faire avec les 15 formes ci-dessous?



10) Combien de groupes de 7 pouvez-vous faire avec les 21 formes ci-dessous?



11) Combien de groupes de 4 pouvez-vous faire avec les 32 formes ci-dessous?



Réponses

Ex. 3

1. _____

2. _____

3. _____

4. _____

5. _____

6. _____

7. _____

8. _____

9. _____

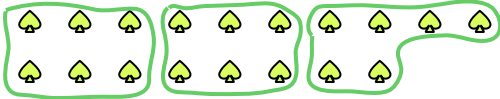
10. _____

11. _____

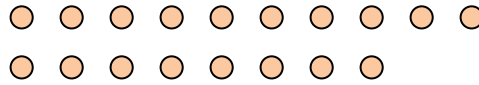


Utilisez les formes pour répondre aux questions.

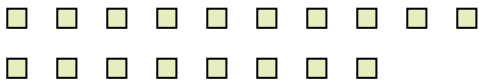
Ex) Combien de groupes de 6 pouvez-vous faire avec les 18 formes ci-dessous?



1) Combien de groupes de 9 pouvez-vous faire avec les 18 formes ci-dessous?



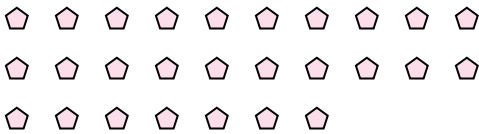
2) Combien de groupes de 2 pouvez-vous faire avec les 18 formes ci-dessous?




3) Combien de groupes de 9 pouvez-vous faire avec les 18 formes ci-dessous?



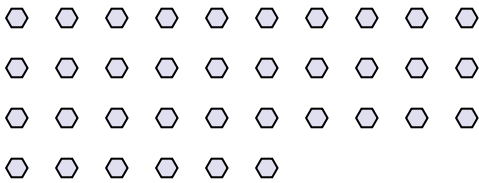
4) Combien de groupes de 9 pouvez-vous faire avec les 27 formes ci-dessous?




5) Combien de groupes de 4 pouvez-vous faire avec les 24 formes ci-dessous?



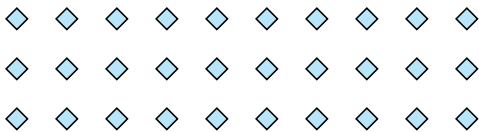
6) Combien de groupes de 6 pouvez-vous faire avec les 36 formes ci-dessous?




7) Combien de groupes de 7 pouvez-vous faire avec les 28 formes ci-dessous?



8) Combien de groupes de 5 pouvez-vous faire avec les 30 formes ci-dessous?




9) Combien de groupes de 5 pouvez-vous faire avec les 15 formes ci-dessous?



10) Combien de groupes de 7 pouvez-vous faire avec les 21 formes ci-dessous?



11) Combien de groupes de 4 pouvez-vous faire avec les 32 formes ci-dessous?



Réponses

Ex. 3

1. 2

2. 9

3. 2

4. 3

5. 6

6. 6

7. 4

8. 6

9. 3

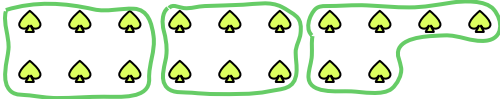
10. 3

11. 8



Utilisez les formes pour répondre aux questions.

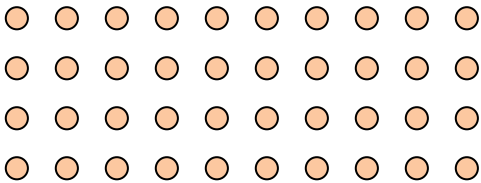
Ex) Combien de groupes de 6 pouvez-vous faire avec les 18 formes ci-dessous?



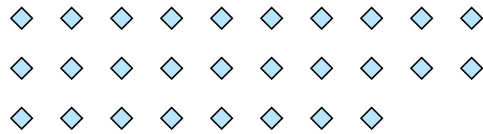
1) Combien de groupes de 7 pouvez-vous faire avec les 21 formes ci-dessous?



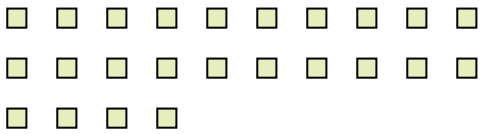
2) Combien de groupes de 5 pouvez-vous faire avec les 40 formes ci-dessous?



3) Combien de groupes de 2 pouvez-vous faire avec les 28 formes ci-dessous?




4) Combien de groupes de 4 pouvez-vous faire avec les 24 formes ci-dessous?



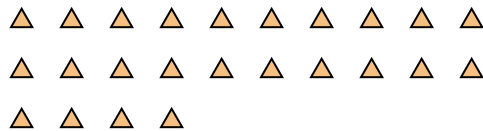
5) Combien de groupes de 4 pouvez-vous faire avec les 16 formes ci-dessous?



6) Combien de groupes de 9 pouvez-vous faire avec les 18 formes ci-dessous?



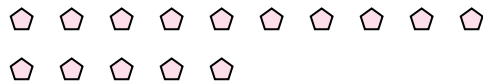
7) Combien de groupes de 6 pouvez-vous faire avec les 24 formes ci-dessous?



8) Combien de groupes de 3 pouvez-vous faire avec les 36 formes ci-dessous?



9) Combien de groupes de 5 pouvez-vous faire avec les 15 formes ci-dessous?



10) Combien de groupes de 4 pouvez-vous faire avec les 8 formes ci-dessous?



11) Combien de groupes de 2 pouvez-vous faire avec les 20 formes ci-dessous?



Réponses

Ex. 3

1. _____

2. _____

3. _____

4. _____

5. _____

6. _____

7. _____

8. _____

9. _____

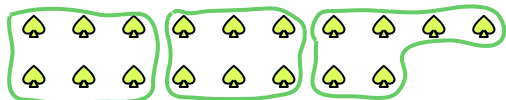
10. _____

11. _____



Utilisez les formes pour répondre aux questions.

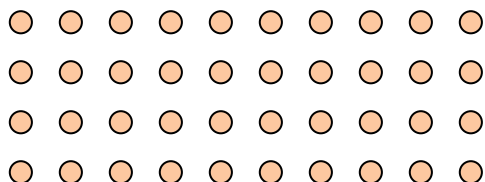
Ex) Combien de groupes de 6 pouvez-vous faire avec les 18 formes ci-dessous?



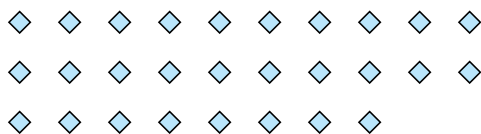
1) Combien de groupes de 7 pouvez-vous faire avec les 21 formes ci-dessous?



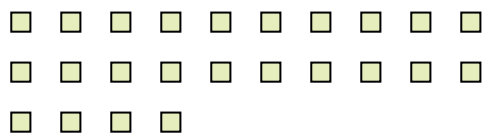
2) Combien de groupes de 5 pouvez-vous faire avec les 40 formes ci-dessous?



3) Combien de groupes de 2 pouvez-vous faire avec les 28 formes ci-dessous?




4) Combien de groupes de 4 pouvez-vous faire avec les 24 formes ci-dessous?



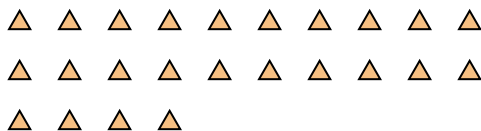
5) Combien de groupes de 4 pouvez-vous faire avec les 16 formes ci-dessous?



6) Combien de groupes de 9 pouvez-vous faire avec les 18 formes ci-dessous?



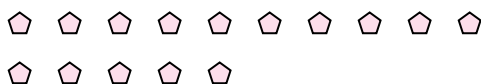
7) Combien de groupes de 6 pouvez-vous faire avec les 24 formes ci-dessous?



8) Combien de groupes de 3 pouvez-vous faire avec les 36 formes ci-dessous?



9) Combien de groupes de 5 pouvez-vous faire avec les 15 formes ci-dessous?



10) Combien de groupes de 4 pouvez-vous faire avec les 8 formes ci-dessous?



11) Combien de groupes de 2 pouvez-vous faire avec les 20 formes ci-dessous?



Réponses

Ex. 3

1. 3

2. 8

3. 14

4. 6

5. 4

6. 2

7. 4

8. 12

9. 3

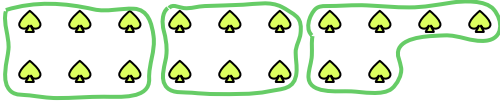
10. 2

11. 10

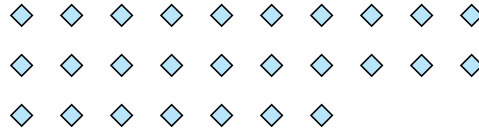


Utilisez les formes pour répondre aux questions.

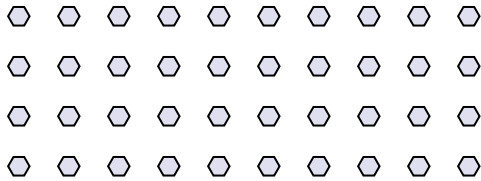
Ex) Combien de groupes de 6 pouvez-vous faire avec les 18 formes ci-dessous?




1) Combien de groupes de 9 pouvez-vous faire avec les 27 formes ci-dessous?



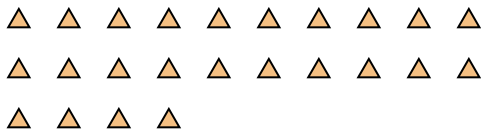
2) Combien de groupes de 8 pouvez-vous faire avec les 40 formes ci-dessous?




3) Combien de groupes de 4 pouvez-vous faire avec les 12 formes ci-dessous?




4) Combien de groupes de 6 pouvez-vous faire avec les 24 formes ci-dessous?



5) Combien de groupes de 6 pouvez-vous faire avec les 18 formes ci-dessous?



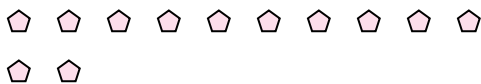
6) Combien de groupes de 3 pouvez-vous faire avec les 33 formes ci-dessous?



7) Combien de groupes de 7 pouvez-vous faire avec les 28 formes ci-dessous?



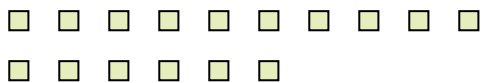
8) Combien de groupes de 6 pouvez-vous faire avec les 12 formes ci-dessous?



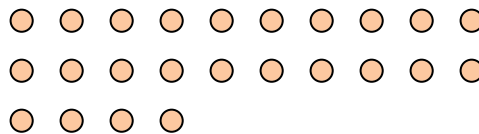
9) Combien de groupes de 3 pouvez-vous faire avec les 9 formes ci-dessous?



10) Combien de groupes de 8 pouvez-vous faire avec les 16 formes ci-dessous?



11) Combien de groupes de 2 pouvez-vous faire avec les 24 formes ci-dessous?



Réponses

Ex. 3

1. 3

2. 5

3. 3

4. 4

5. 3

6. 11

7. 4

8. 2

9. 3

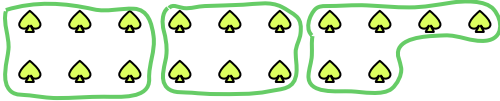
10. 2

11. 12

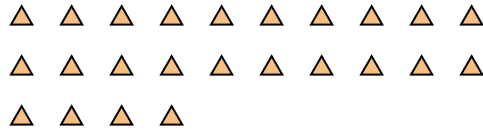


Utilisez les formes pour répondre aux questions.

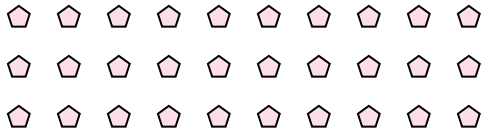
Ex) Combien de groupes de 6 pouvez-vous faire avec les 18 formes ci-dessous?



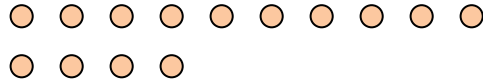
1) Combien de groupes de 8 pouvez-vous faire avec les 24 formes ci-dessous?



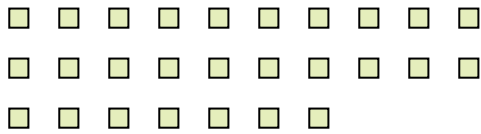
2) Combien de groupes de 6 pouvez-vous faire avec les 30 formes ci-dessous?



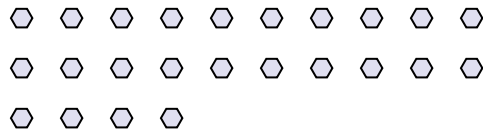
3) Combien de groupes de 7 pouvez-vous faire avec les 14 formes ci-dessous?



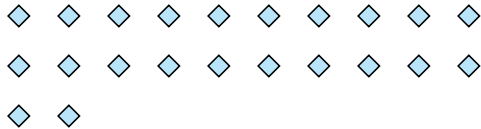
4) Combien de groupes de 9 pouvez-vous faire avec les 27 formes ci-dessous?



5) Combien de groupes de 4 pouvez-vous faire avec les 24 formes ci-dessous?



6) Combien de groupes de 2 pouvez-vous faire avec les 22 formes ci-dessous?




7) Combien de groupes de 2 pouvez-vous faire avec les 8 formes ci-dessous?




8) Combien de groupes de 9 pouvez-vous faire avec les 27 formes ci-dessous?



9) Combien de groupes de 7 pouvez-vous faire avec les 35 formes ci-dessous?



10) Combien de groupes de 4 pouvez-vous faire avec les 32 formes ci-dessous?



11) Combien de groupes de 6 pouvez-vous faire avec les 12 formes ci-dessous?



Réponses

Ex. 3

1. _____

2. _____

3. _____

4. _____

5. _____

6. _____

7. _____

8. _____

9. _____

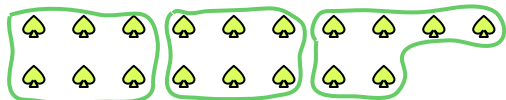
10. _____

11. _____

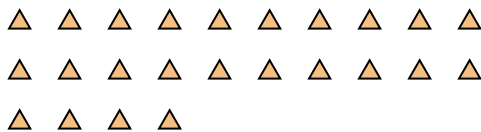


Utilisez les formes pour répondre aux questions.

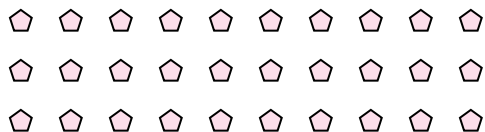
Ex) Combien de groupes de 6 pouvez-vous faire avec les 18 formes ci-dessous?



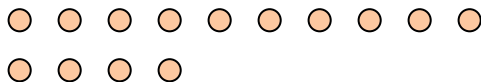
1) Combien de groupes de 8 pouvez-vous faire avec les 24 formes ci-dessous?



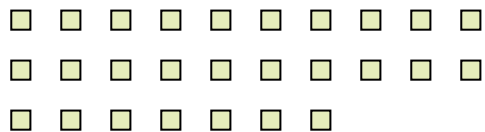
2) Combien de groupes de 6 pouvez-vous faire avec les 30 formes ci-dessous?



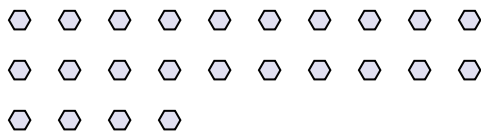
3) Combien de groupes de 7 pouvez-vous faire avec les 14 formes ci-dessous?



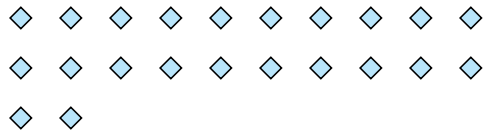
4) Combien de groupes de 9 pouvez-vous faire avec les 27 formes ci-dessous?



5) Combien de groupes de 4 pouvez-vous faire avec les 24 formes ci-dessous?



6) Combien de groupes de 2 pouvez-vous faire avec les 22 formes ci-dessous?




7) Combien de groupes de 2 pouvez-vous faire avec les 8 formes ci-dessous?




8) Combien de groupes de 9 pouvez-vous faire avec les 27 formes ci-dessous?



9) Combien de groupes de 7 pouvez-vous faire avec les 35 formes ci-dessous?



10) Combien de groupes de 4 pouvez-vous faire avec les 32 formes ci-dessous?



11) Combien de groupes de 6 pouvez-vous faire avec les 12 formes ci-dessous?



Réponses

Ex. 3

1. 3

2. 5

3. 2

4. 3

5. 6

6. 11

7. 4

8. 3

9. 5

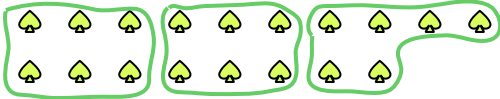
10. 8

11. 2



Utilisez les formes pour répondre aux questions.

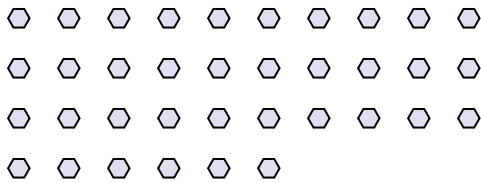
Ex) Combien de groupes de 6 pouvez-vous faire avec les 18 formes ci-dessous?



1) Combien de groupes de 8 pouvez-vous faire avec les 32 formes ci-dessous?



2) Combien de groupes de 9 pouvez-vous faire avec les 36 formes ci-dessous?



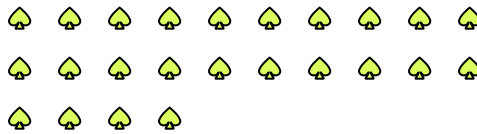
3) Combien de groupes de 9 pouvez-vous faire avec les 18 formes ci-dessous?



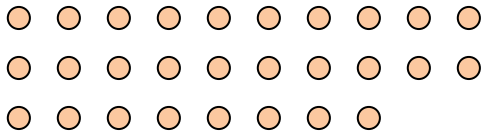
4) Combien de groupes de 6 pouvez-vous faire avec les 12 formes ci-dessous?



5) Combien de groupes de 4 pouvez-vous faire avec les 24 formes ci-dessous?



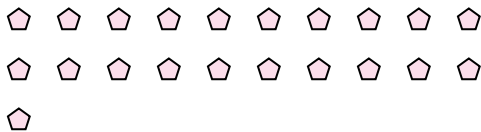
6) Combien de groupes de 2 pouvez-vous faire avec les 28 formes ci-dessous?




7) Combien de groupes de 3 pouvez-vous faire avec les 6 formes ci-dessous?




8) Combien de groupes de 7 pouvez-vous faire avec les 21 formes ci-dessous?




9) Combien de groupes de 5 pouvez-vous faire avec les 40 formes ci-dessous?



10) Combien de groupes de 6 pouvez-vous faire avec les 36 formes ci-dessous?



11) Combien de groupes de 9 pouvez-vous faire avec les 36 formes ci-dessous?



Réponses

Ex. 3

1. 4

2. 4

3. 2

4. 2

5. 6

6. 14

7. 2

8. 3

9. 8

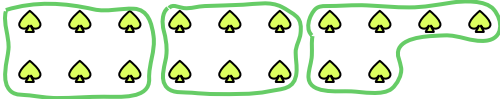
10. 6

11. 4




Utilisez les formes pour répondre aux questions.

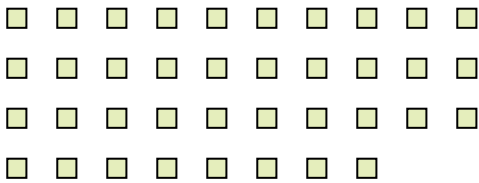
Ex) Combien de groupes de 6 pouvez-vous faire avec les 18 formes ci-dessous?



1) Combien de groupes de 2 pouvez-vous faire avec les 24 formes ci-dessous?




2) Combien de groupes de 2 pouvez-vous faire avec les 38 formes ci-dessous?



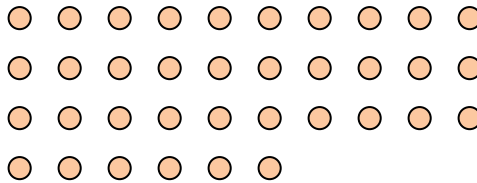
3) Combien de groupes de 9 pouvez-vous faire avec les 18 formes ci-dessous?



4) Combien de groupes de 8 pouvez-vous faire avec les 24 formes ci-dessous?




5) Combien de groupes de 6 pouvez-vous faire avec les 36 formes ci-dessous?



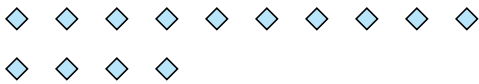
6) Combien de groupes de 6 pouvez-vous faire avec les 24 formes ci-dessous?



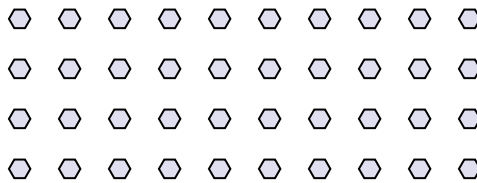
7) Combien de groupes de 9 pouvez-vous faire avec les 36 formes ci-dessous?




8) Combien de groupes de 7 pouvez-vous faire avec les 14 formes ci-dessous?



9) Combien de groupes de 8 pouvez-vous faire avec les 40 formes ci-dessous?



10) Combien de groupes de 3 pouvez-vous faire avec les 27 formes ci-dessous?



11) Combien de groupes de 9 pouvez-vous faire avec les 18 formes ci-dessous?



Réponses

Ex. 3

1. _____

2. _____

3. _____

4. _____

5. _____

6. _____

7. _____

8. _____

9. _____

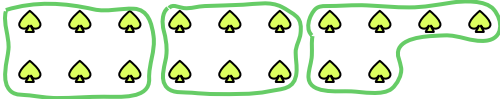
10. _____

11. _____

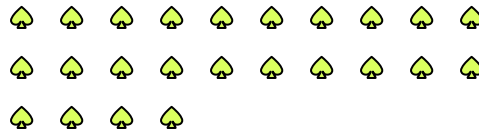


Utilisez les formes pour répondre aux questions.

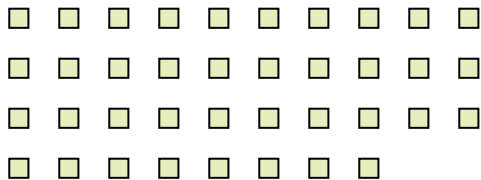
Ex) Combien de groupes de 6 pouvez-vous faire avec les 18 formes ci-dessous?



1) Combien de groupes de 2 pouvez-vous faire avec les 24 formes ci-dessous?



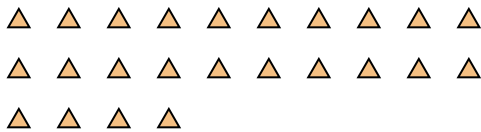
2) Combien de groupes de 2 pouvez-vous faire avec les 38 formes ci-dessous?



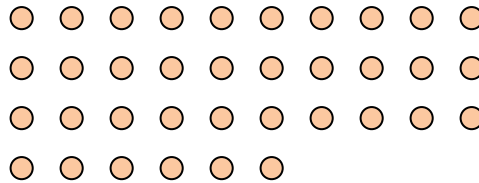
3) Combien de groupes de 9 pouvez-vous faire avec les 18 formes ci-dessous?



4) Combien de groupes de 8 pouvez-vous faire avec les 24 formes ci-dessous?




5) Combien de groupes de 6 pouvez-vous faire avec les 36 formes ci-dessous?



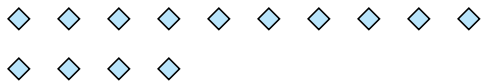
6) Combien de groupes de 6 pouvez-vous faire avec les 24 formes ci-dessous?



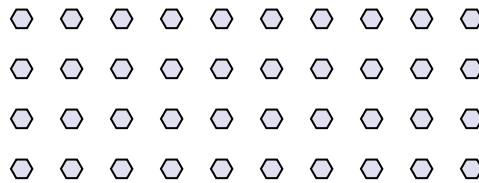
7) Combien de groupes de 9 pouvez-vous faire avec les 36 formes ci-dessous?




8) Combien de groupes de 7 pouvez-vous faire avec les 14 formes ci-dessous?



9) Combien de groupes de 8 pouvez-vous faire avec les 40 formes ci-dessous?



10) Combien de groupes de 3 pouvez-vous faire avec les 27 formes ci-dessous?



11) Combien de groupes de 9 pouvez-vous faire avec les 18 formes ci-dessous?



Réponses

Ex. 3

1. 12

2. 19

3. 2

4. 3

5. 6

6. 4

7. 4

8. 2

9. 5

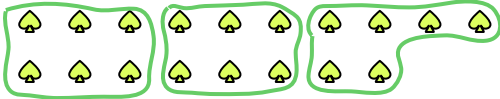
10. 9

11. 2

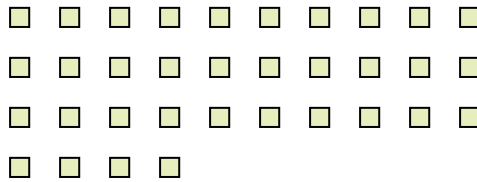


Utilisez les formes pour répondre aux questions.

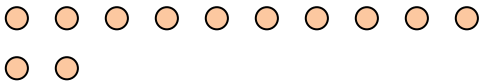
Ex) Combien de groupes de 6 pouvez-vous faire avec les 18 formes ci-dessous?



1) Combien de groupes de 2 pouvez-vous faire avec les 34 formes ci-dessous?



2) Combien de groupes de 6 pouvez-vous faire avec les 12 formes ci-dessous?




3) Combien de groupes de 3 pouvez-vous faire avec les 6 formes ci-dessous?



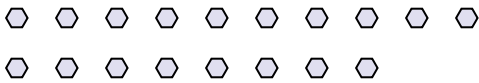
4) Combien de groupes de 7 pouvez-vous faire avec les 21 formes ci-dessous?



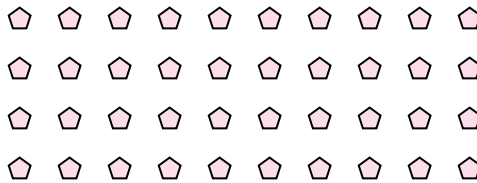
5) Combien de groupes de 9 pouvez-vous faire avec les 27 formes ci-dessous?




6) Combien de groupes de 6 pouvez-vous faire avec les 18 formes ci-dessous?



7) Combien de groupes de 8 pouvez-vous faire avec les 40 formes ci-dessous?



8) Combien de groupes de 6 pouvez-vous faire avec les 24 formes ci-dessous?



9) Combien de groupes de 6 pouvez-vous faire avec les 12 formes ci-dessous?



10) Combien de groupes de 4 pouvez-vous faire avec les 16 formes ci-dessous?



11) Combien de groupes de 8 pouvez-vous faire avec les 24 formes ci-dessous?



Réponses

Ex. 3

1. 17

2. 2

3. 2

4. 3

5. 3

6. 3

7. 5

8. 4

9. 2

10. 4

11. 3