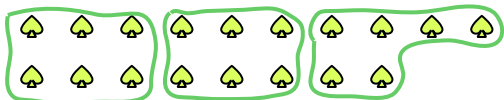





Utilisez les formes pour répondre aux questions.


Ex) Combien de groupes de 6 pouvez-vous faire avec les 18 formes ci-dessous?



1) Combien de groupes de 2 pouvez-vous faire avec les 24 formes ci-dessous?




2) Combien de groupes de 2 pouvez-vous faire avec les 38 formes ci-dessous?



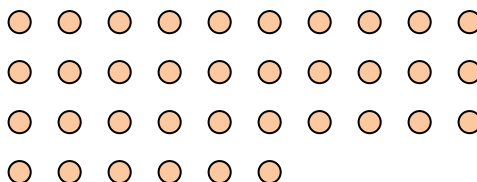
3) Combien de groupes de 9 pouvez-vous faire avec les 18 formes ci-dessous?



4) Combien de groupes de 8 pouvez-vous faire avec les 24 formes ci-dessous?




5) Combien de groupes de 6 pouvez-vous faire avec les 36 formes ci-dessous?



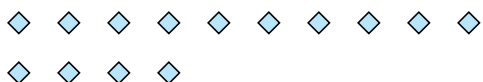
6) Combien de groupes de 6 pouvez-vous faire avec les 24 formes ci-dessous?



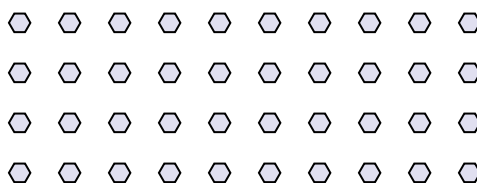
7) Combien de groupes de 9 pouvez-vous faire avec les 36 formes ci-dessous?




8) Combien de groupes de 7 pouvez-vous faire avec les 14 formes ci-dessous?



9) Combien de groupes de 8 pouvez-vous faire avec les 40 formes ci-dessous?



10) Combien de groupes de 3 pouvez-vous faire avec les 27 formes ci-dessous?



11) Combien de groupes de 9 pouvez-vous faire avec les 18 formes ci-dessous?



Réponses

Ex. 3

1. _____

2. _____

3. _____

4. _____

5. _____

6. _____

7. _____

8. _____

9. _____

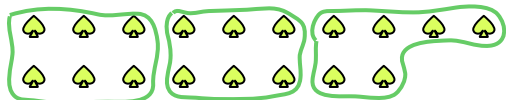
10. _____

11. _____




Utilisez les formes pour répondre aux questions.

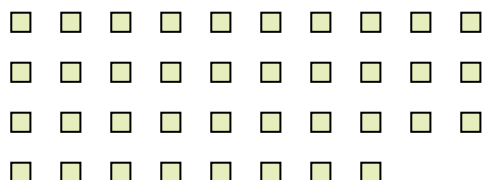
Ex) Combien de groupes de 6 pouvez-vous faire avec les 18 formes ci-dessous?



1) Combien de groupes de 2 pouvez-vous faire avec les 24 formes ci-dessous?




2) Combien de groupes de 2 pouvez-vous faire avec les 38 formes ci-dessous?



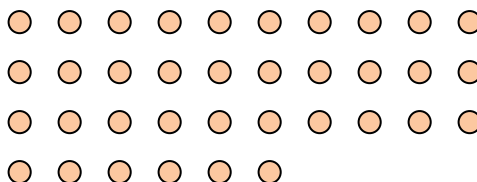
3) Combien de groupes de 9 pouvez-vous faire avec les 18 formes ci-dessous?



4) Combien de groupes de 8 pouvez-vous faire avec les 24 formes ci-dessous?




5) Combien de groupes de 6 pouvez-vous faire avec les 36 formes ci-dessous?



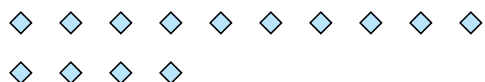
6) Combien de groupes de 6 pouvez-vous faire avec les 24 formes ci-dessous?



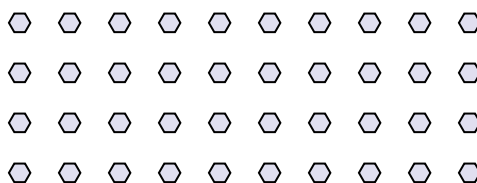
7) Combien de groupes de 9 pouvez-vous faire avec les 36 formes ci-dessous?




8) Combien de groupes de 7 pouvez-vous faire avec les 14 formes ci-dessous?



9) Combien de groupes de 8 pouvez-vous faire avec les 40 formes ci-dessous?



10) Combien de groupes de 3 pouvez-vous faire avec les 27 formes ci-dessous?



11) Combien de groupes de 9 pouvez-vous faire avec les 18 formes ci-dessous?



Réponses

Ex. 3

1. 12

2. 19

3. 2

4. 3

5. 6

6. 4

7. 4

8. 2

9. 5

10. 9

11. 2