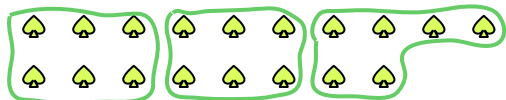


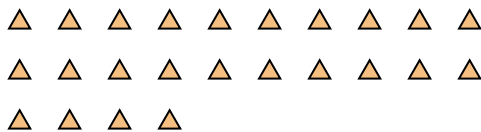


Utilisez les formes pour répondre aux questions.

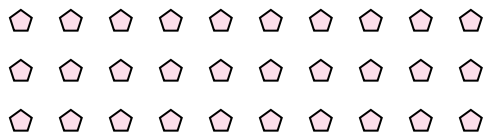
Ex) Combien de groupes de 6 pouvez-vous faire avec les 18 formes ci-dessous?



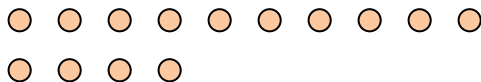
1) Combien de groupes de 8 pouvez-vous faire avec les 24 formes ci-dessous?



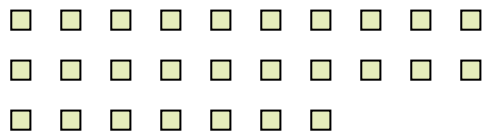
2) Combien de groupes de 6 pouvez-vous faire avec les 30 formes ci-dessous?



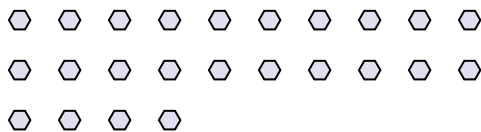
3) Combien de groupes de 7 pouvez-vous faire avec les 14 formes ci-dessous?



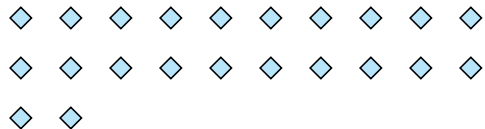
4) Combien de groupes de 9 pouvez-vous faire avec les 27 formes ci-dessous?



5) Combien de groupes de 4 pouvez-vous faire avec les 24 formes ci-dessous?



6) Combien de groupes de 2 pouvez-vous faire avec les 22 formes ci-dessous?




7) Combien de groupes de 2 pouvez-vous faire avec les 8 formes ci-dessous?




8) Combien de groupes de 9 pouvez-vous faire avec les 27 formes ci-dessous?



9) Combien de groupes de 7 pouvez-vous faire avec les 35 formes ci-dessous?



10) Combien de groupes de 4 pouvez-vous faire avec les 32 formes ci-dessous?



11) Combien de groupes de 6 pouvez-vous faire avec les 12 formes ci-dessous?



Réponses

Ex. 3

1. 3

2. 5

3. 2

4. 3

5. 6

6. 11

7. 4

8. 3

9. 5

10. 8

11. 2