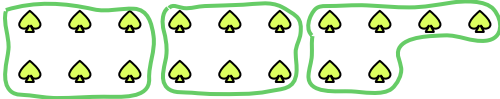




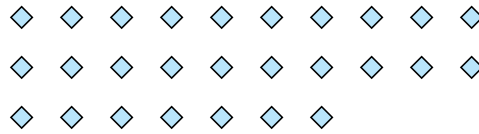


Utilisez les formes pour répondre aux questions.

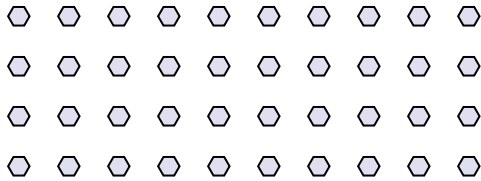
Ex) Combien de groupes de 6 pouvez-vous faire avec les 18 formes ci-dessous?




1) Combien de groupes de 9 pouvez-vous faire avec les 27 formes ci-dessous?



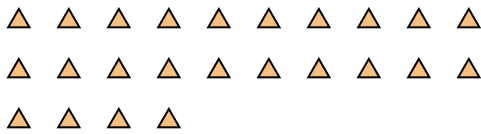
2) Combien de groupes de 8 pouvez-vous faire avec les 40 formes ci-dessous?




3) Combien de groupes de 4 pouvez-vous faire avec les 12 formes ci-dessous?




4) Combien de groupes de 6 pouvez-vous faire avec les 24 formes ci-dessous?



5) Combien de groupes de 6 pouvez-vous faire avec les 18 formes ci-dessous?



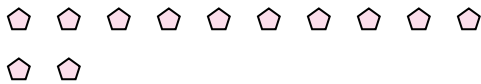
6) Combien de groupes de 3 pouvez-vous faire avec les 33 formes ci-dessous?



7) Combien de groupes de 7 pouvez-vous faire avec les 28 formes ci-dessous?



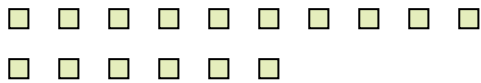
8) Combien de groupes de 6 pouvez-vous faire avec les 12 formes ci-dessous?



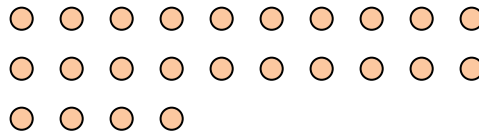
9) Combien de groupes de 3 pouvez-vous faire avec les 9 formes ci-dessous?



10) Combien de groupes de 8 pouvez-vous faire avec les 16 formes ci-dessous?



11) Combien de groupes de 2 pouvez-vous faire avec les 24 formes ci-dessous?



**Réponses**

Ex. 3

1. 3

2. 5

3. 3

4. 4

5. 3

6. 11

7. 4

8. 2

9. 3

10. 2

11. 12