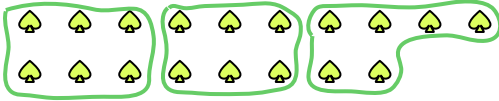




Utilisez les formes pour répondre aux questions.

Ex) Combien de groupes de 6 pouvez-vous faire avec les 18 formes ci-dessous?



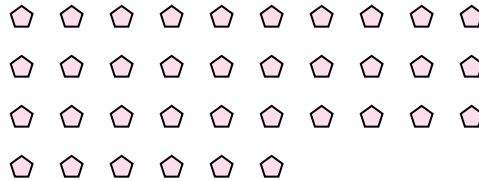
1) Combien de groupes de 6 pouvez-vous faire avec les 24 formes ci-dessous?



2) Combien de groupes de 3 pouvez-vous faire avec les 9 formes ci-dessous?



3) Combien de groupes de 9 pouvez-vous faire avec les 36 formes ci-dessous?



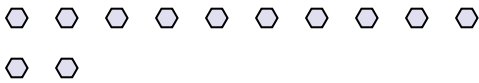
4) Combien de groupes de 2 pouvez-vous faire avec les 38 formes ci-dessous?



5) Combien de groupes de 9 pouvez-vous faire avec les 36 formes ci-dessous?



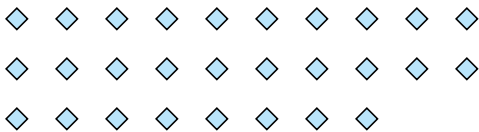
6) Combien de groupes de 6 pouvez-vous faire avec les 12 formes ci-dessous?




7) Combien de groupes de 2 pouvez-vous faire avec les 8 formes ci-dessous?



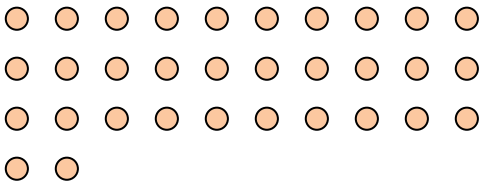
8) Combien de groupes de 7 pouvez-vous faire avec les 28 formes ci-dessous?




9) Combien de groupes de 6 pouvez-vous faire avec les 36 formes ci-dessous?



10) Combien de groupes de 4 pouvez-vous faire avec les 32 formes ci-dessous?



11) Combien de groupes de 6 pouvez-vous faire avec les 36 formes ci-dessous?



Réponses

Ex. 3

1. _____

2. _____

3. _____

4. _____

5. _____

6. _____

7. _____

8. _____

9. _____

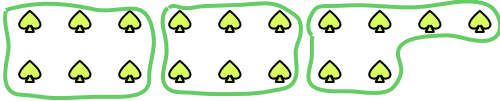
10. _____

11. _____



Utilisez les formes pour répondre aux questions.

Ex) Combien de groupes de 6 pouvez-vous faire avec les 18 formes ci-dessous?



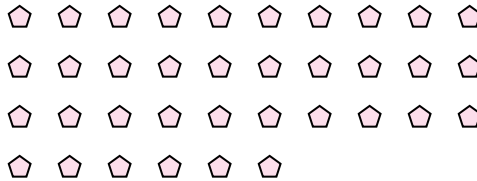
1) Combien de groupes de 6 pouvez-vous faire avec les 24 formes ci-dessous?



2) Combien de groupes de 3 pouvez-vous faire avec les 9 formes ci-dessous?



3) Combien de groupes de 9 pouvez-vous faire avec les 36 formes ci-dessous?



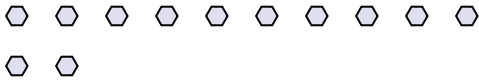
4) Combien de groupes de 2 pouvez-vous faire avec les 38 formes ci-dessous?




5) Combien de groupes de 9 pouvez-vous faire avec les 36 formes ci-dessous?



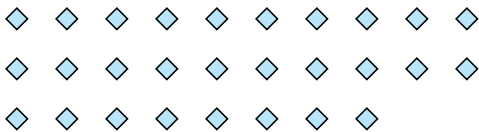
6) Combien de groupes de 6 pouvez-vous faire avec les 12 formes ci-dessous?




7) Combien de groupes de 2 pouvez-vous faire avec les 8 formes ci-dessous?



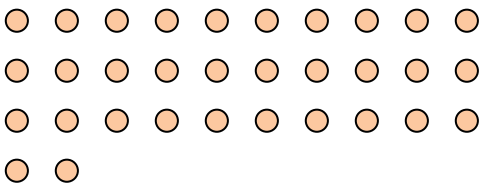
8) Combien de groupes de 7 pouvez-vous faire avec les 28 formes ci-dessous?




9) Combien de groupes de 6 pouvez-vous faire avec les 36 formes ci-dessous?



10) Combien de groupes de 4 pouvez-vous faire avec les 32 formes ci-dessous?



11) Combien de groupes de 6 pouvez-vous faire avec les 36 formes ci-dessous?



Réponses

Ex. 3

1. 4

2. 3

3. 4

4. 19

5. 4

6. 2

7. 4

8. 4

9. 6

10. 8

11. 6