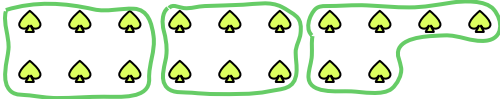


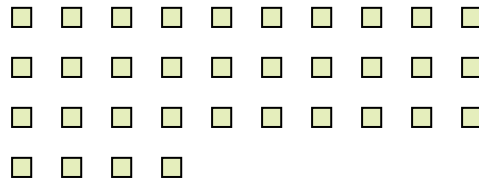


Utilisez les formes pour répondre aux questions.

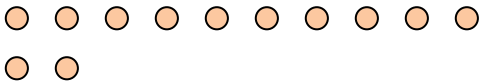
Ex) Combien de groupes de 6 pouvez-vous faire avec les 18 formes ci-dessous?



1) Combien de groupes de 2 pouvez-vous faire avec les 34 formes ci-dessous?



2) Combien de groupes de 6 pouvez-vous faire avec les 12 formes ci-dessous?




3) Combien de groupes de 3 pouvez-vous faire avec les 6 formes ci-dessous?



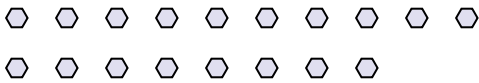
4) Combien de groupes de 7 pouvez-vous faire avec les 21 formes ci-dessous?



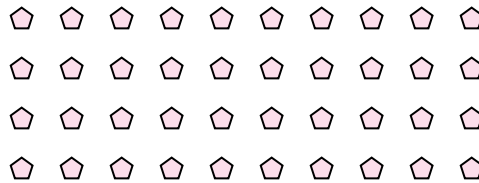
5) Combien de groupes de 9 pouvez-vous faire avec les 27 formes ci-dessous?




6) Combien de groupes de 6 pouvez-vous faire avec les 18 formes ci-dessous?



7) Combien de groupes de 8 pouvez-vous faire avec les 40 formes ci-dessous?



8) Combien de groupes de 6 pouvez-vous faire avec les 24 formes ci-dessous?



9) Combien de groupes de 6 pouvez-vous faire avec les 12 formes ci-dessous?



10) Combien de groupes de 4 pouvez-vous faire avec les 16 formes ci-dessous?



11) Combien de groupes de 8 pouvez-vous faire avec les 24 formes ci-dessous?



Réponses

Ex. 3

1. _____

2. _____

3. _____

4. _____

5. _____

6. _____

7. _____

8. _____

9. _____

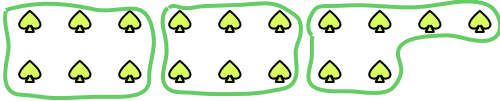
10. _____

11. _____

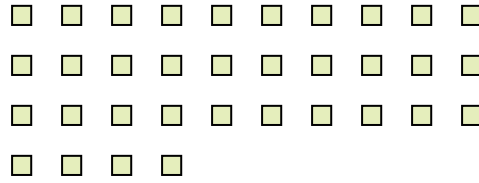


Utilisez les formes pour répondre aux questions.

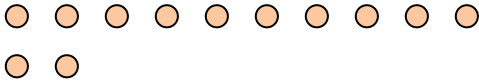
Ex) Combien de groupes de 6 pouvez-vous faire avec les 18 formes ci-dessous?



1) Combien de groupes de 2 pouvez-vous faire avec les 34 formes ci-dessous?




2) Combien de groupes de 6 pouvez-vous faire avec les 12 formes ci-dessous?




3) Combien de groupes de 3 pouvez-vous faire avec les 6 formes ci-dessous?



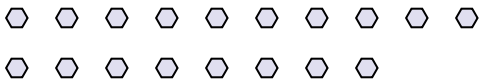
4) Combien de groupes de 7 pouvez-vous faire avec les 21 formes ci-dessous?



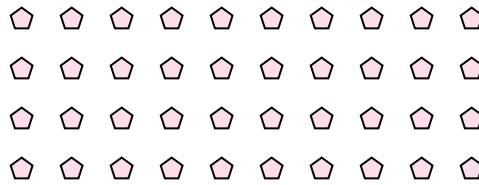
5) Combien de groupes de 9 pouvez-vous faire avec les 27 formes ci-dessous?




6) Combien de groupes de 6 pouvez-vous faire avec les 18 formes ci-dessous?



7) Combien de groupes de 8 pouvez-vous faire avec les 40 formes ci-dessous?



8) Combien de groupes de 6 pouvez-vous faire avec les 24 formes ci-dessous?



9) Combien de groupes de 6 pouvez-vous faire avec les 12 formes ci-dessous?



10) Combien de groupes de 4 pouvez-vous faire avec les 16 formes ci-dessous?



11) Combien de groupes de 8 pouvez-vous faire avec les 24 formes ci-dessous?



Réponses

Ex. 3

1. 17

2. 2

3. 2

4. 3

5. 3

6. 3

7. 5

8. 4

9. 2

10. 4

11. 3