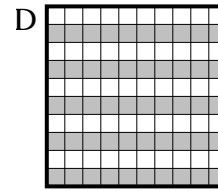
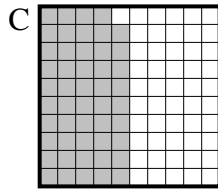
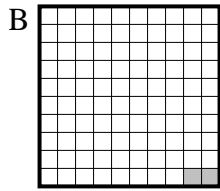
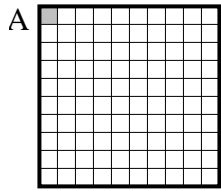


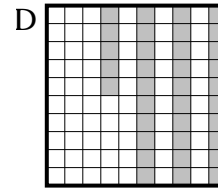
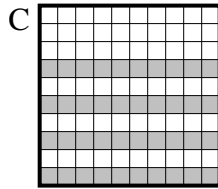
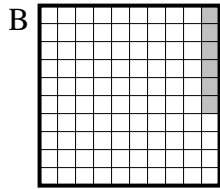
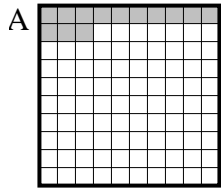


Choisir la réponse la plus appropriée.

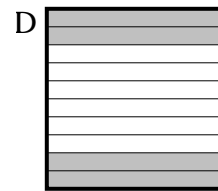
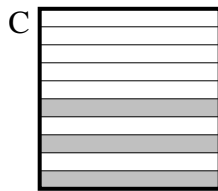
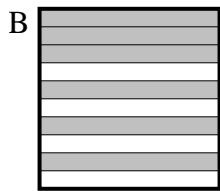
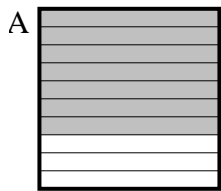
1) Quelle grille de 10×10 cases, où le nombre de cases colorées permette, lorsqu'il est ajouté à 0.99, donne un résultat de 1,00?



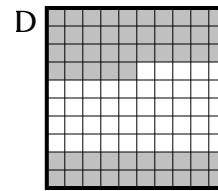
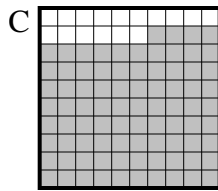
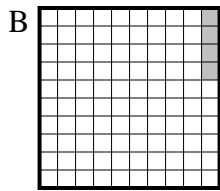
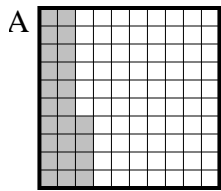
2) Quelle grille de 10×10 cases, où le nombre de cases colorées permette, lorsqu'il est ajouté à 0.94, donne un résultat de 1,00?



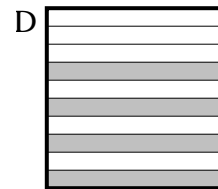
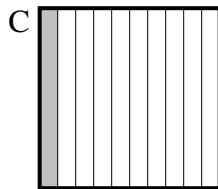
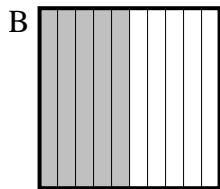
3) Quelle grille de 10×1 cases, où le nombre de cases colorées permette, lorsqu'il est ajouté à 0.4, donne un résultat de 1,00?




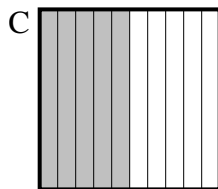
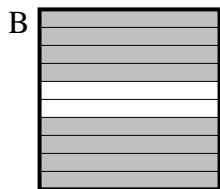
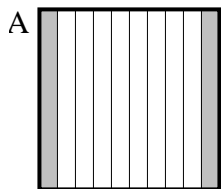
4) Quelle grille de 10×10 cases, où le nombre de cases colorées permette, lorsqu'il est ajouté à 0.96, donne un résultat de 1,00?



5) Quelle grille de 10×1 cases, où le nombre de cases colorées permette, lorsqu'il est ajouté à 0.5, donne un résultat de 1,00?



6) Quelle grille de 10×1 cases, où le nombre de cases colorées permette, lorsqu'il est ajouté à 0.8, donne un résultat de 1,00?



Réponses

1. _____

2. _____

3. _____

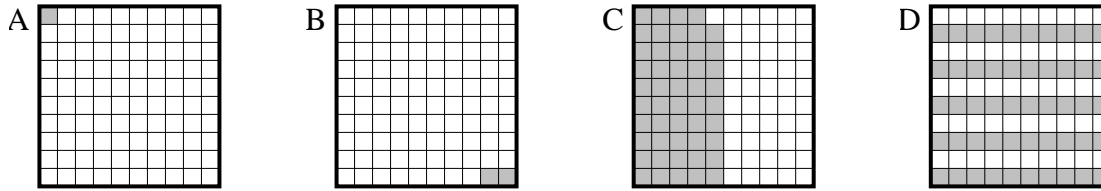
4. _____

5. _____

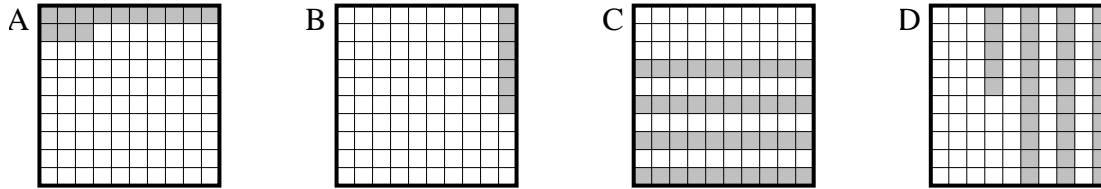
6. _____

**Choisir la réponse la plus appropriée.**

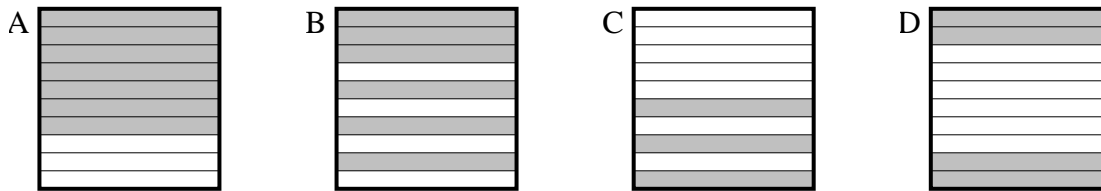
- 1) Quelle grille de 10×10 cases, où le nombre de cases colorées permette, lorsqu'il est ajouté à 0.99, donne un résultat de 1,00?



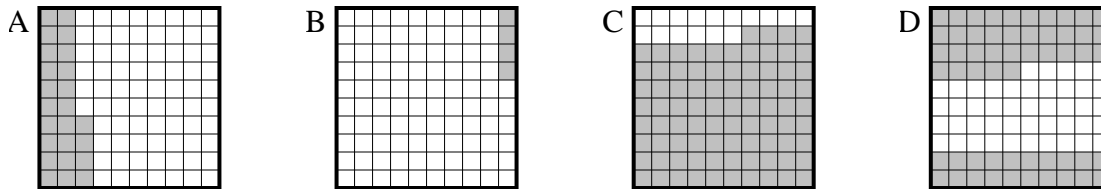
- 2) Quelle grille de 10×10 cases, où le nombre de cases colorées permette, lorsqu'il est ajouté à 0.94, donne un résultat de 1,00?



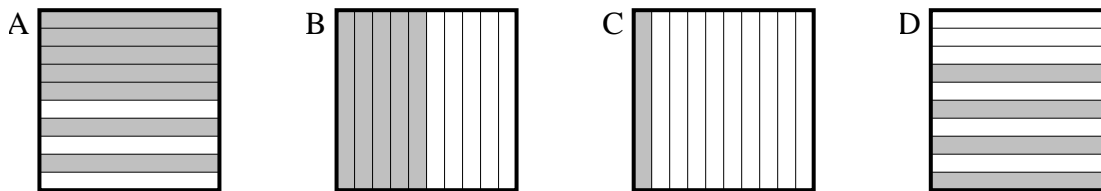
- 3) Quelle grille de 10×1 cases, où le nombre de cases colorées permette, lorsqu'il est ajouté à 0.4, donne un résultat de 1,00?



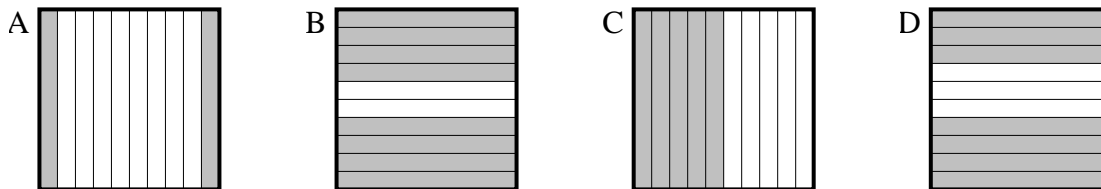
- 4) Quelle grille de 10×10 cases, où le nombre de cases colorées permette, lorsqu'il est ajouté à 0.96, donne un résultat de 1,00?



- 5) Quelle grille de 10×1 cases, où le nombre de cases colorées permette, lorsqu'il est ajouté à 0.5, donne un résultat de 1,00?



- 6) Quelle grille de 10×1 cases, où le nombre de cases colorées permette, lorsqu'il est ajouté à 0.8, donne un résultat de 1,00?

**Réponses**

1. **A**
 2. **B**
 3. **B**
 4. **B**
 5. **B**
 6. **A**