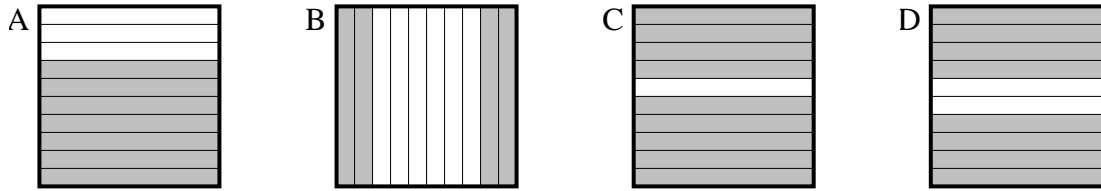


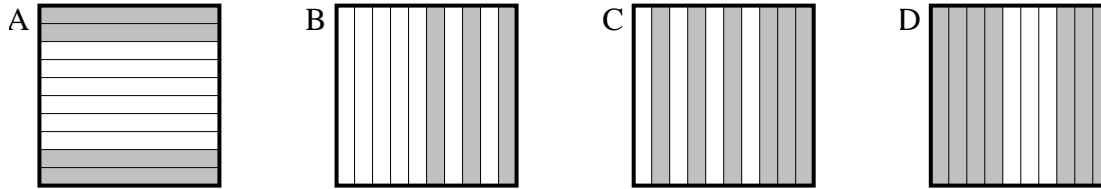


Choisir la réponse la plus appropriée.

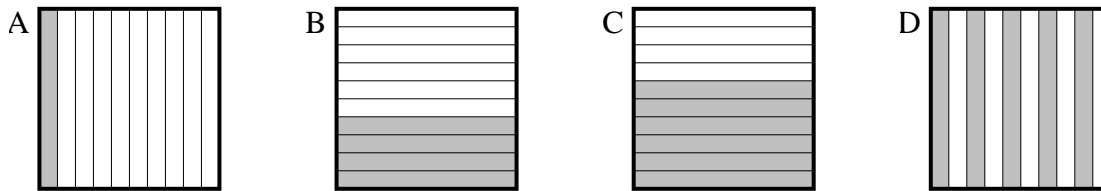
1) Quelle grille de 10×1 cases, où le nombre de cases colorées permette, lorsqu'il est ajouté à 0.6, donne un résultat de 1,00?



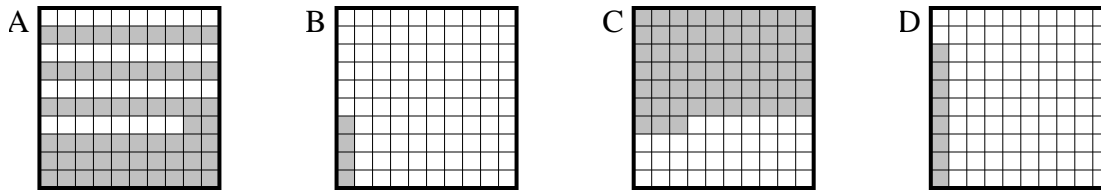
2) Quelle grille de 10×1 cases, où le nombre de cases colorées permette, lorsqu'il est ajouté à 0.7, donne un résultat de 1,00?



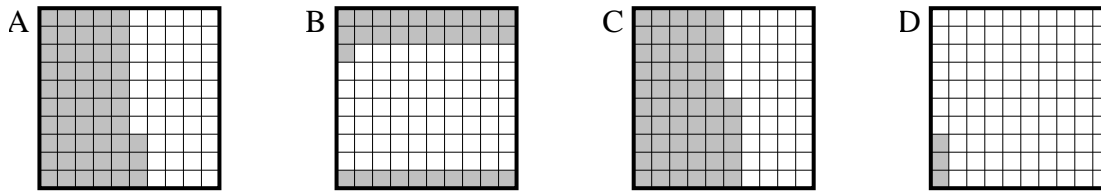
3) Quelle grille de 10×1 cases, où le nombre de cases colorées permette, lorsqu'il est ajouté à 0.4, donne un résultat de 1,00?



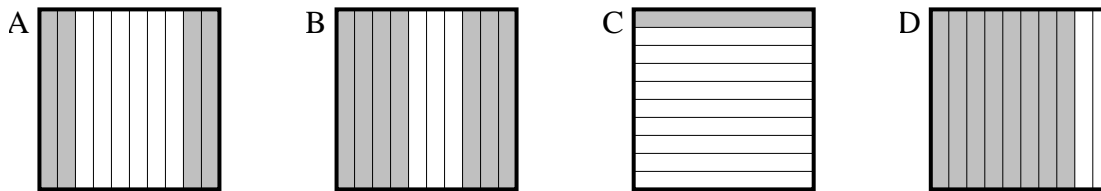
4) Quelle grille de 10×10 cases, où le nombre de cases colorées permette, lorsqu'il est ajouté à 0.92, donne un résultat de 1,00?



5) Quelle grille de 10×10 cases, où le nombre de cases colorées permette, lorsqu'il est ajouté à 0.97, donne un résultat de 1,00?



6) Quelle grille de 10×1 cases, où le nombre de cases colorées permette, lorsqu'il est ajouté à 0.9, donne un résultat de 1,00?



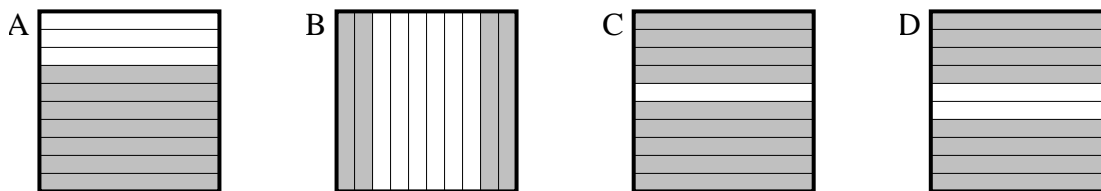
Réponses

1. _____
2. _____
3. _____
4. _____
5. _____
6. _____

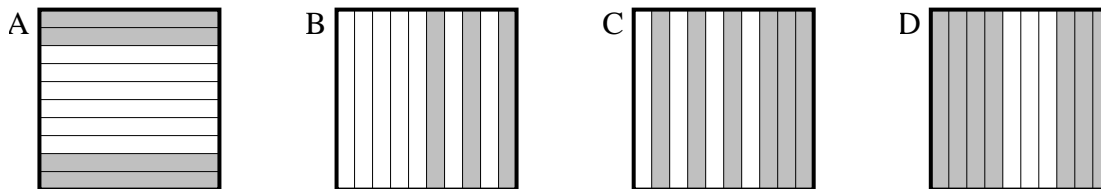


Choisir la réponse la plus appropriée.

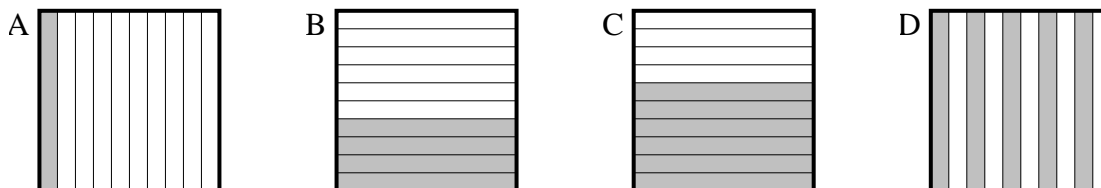
1) Quelle grille de 10×1 cases, où le nombre de cases colorées permet, lorsqu'il est ajouté à 0.6, donne un résultat de 1,00?



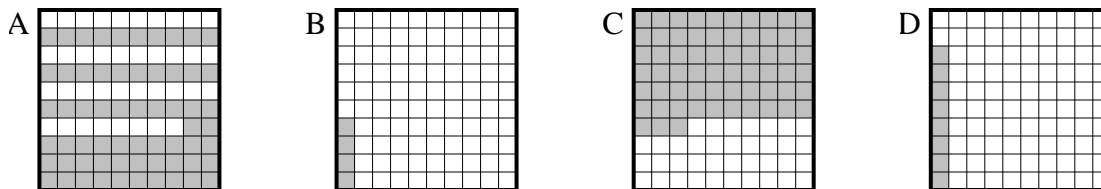
2) Quelle grille de 10×1 cases, où le nombre de cases colorées permet, lorsqu'il est ajouté à 0.7, donne un résultat de 1,00?



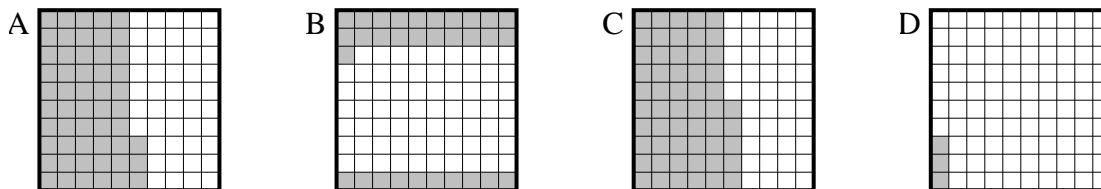
3) Quelle grille de 10×1 cases, où le nombre de cases colorées permet, lorsqu'il est ajouté à 0.4, donne un résultat de 1,00?



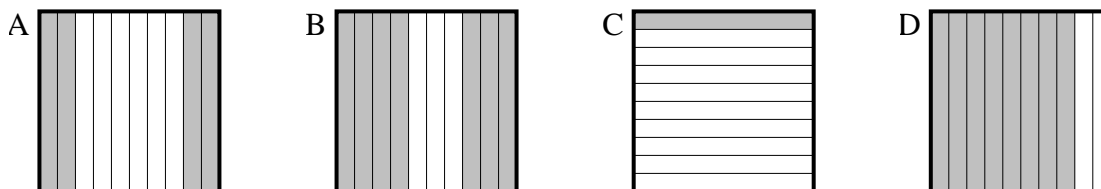
4) Quelle grille de 10×10 cases, où le nombre de cases colorées permet, lorsqu'il est ajouté à 0.92, donne un résultat de 1,00?



5) Quelle grille de 10×10 cases, où le nombre de cases colorées permet, lorsqu'il est ajouté à 0.97, donne un résultat de 1,00?



6) Quelle grille de 10×1 cases, où le nombre de cases colorées permet, lorsqu'il est ajouté à 0.9, donne un résultat de 1,00?



Réponses

1. **B**

2. **B**

3. **C**

4. **D**

5. **D**

6. **C**