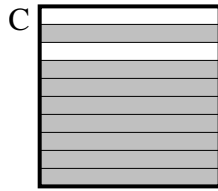
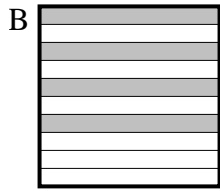
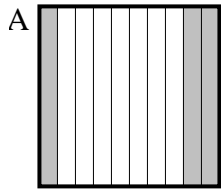


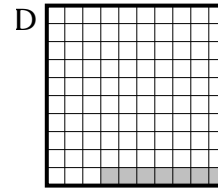
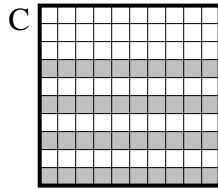
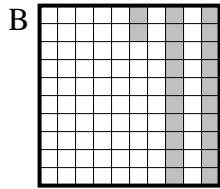
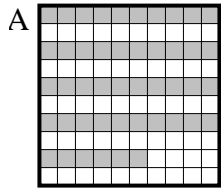


Choisir la réponse la plus appropriée.

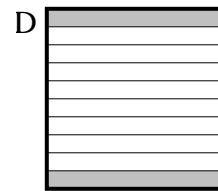
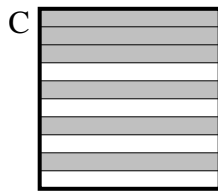
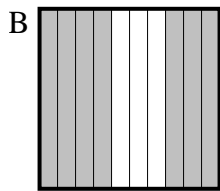
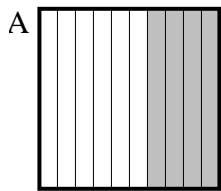
1) Quelle grille de 10×1 cases, où le nombre de cases colorées permette, lorsqu'il est ajouté à 0.4, donne un résultat de 1,00?



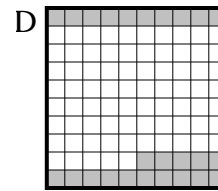
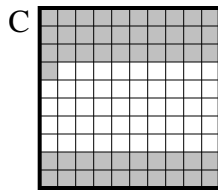
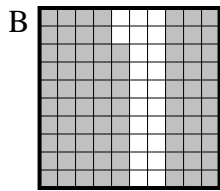
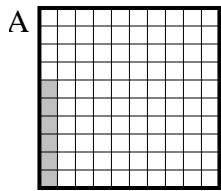
2) Quelle grille de 10×10 cases, où le nombre de cases colorées permette, lorsqu'il est ajouté à 0.93, donne un résultat de 1,00?



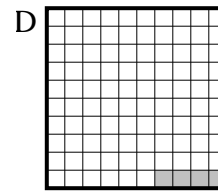
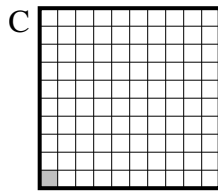
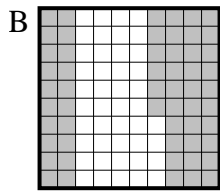
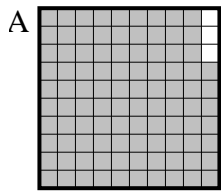
3) Quelle grille de 10×1 cases, où le nombre de cases colorées permette, lorsqu'il est ajouté à 0.8, donne un résultat de 1,00?



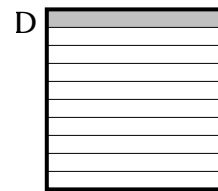
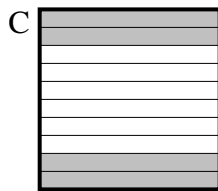
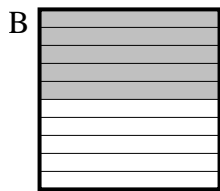
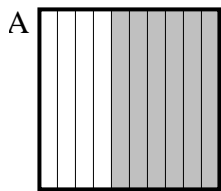
4) Quelle grille de 10×10 cases, où le nombre de cases colorées permette, lorsqu'il est ajouté à 0.94, donne un résultat de 1,00?



5) Quelle grille de 10×10 cases, où le nombre de cases colorées permette, lorsqu'il est ajouté à 0.96, donne un résultat de 1,00?



6) Quelle grille de 10×1 cases, où le nombre de cases colorées permette, lorsqu'il est ajouté à 0.6, donne un résultat de 1,00?



Réponses

1. _____

2. _____

3. _____

4. _____

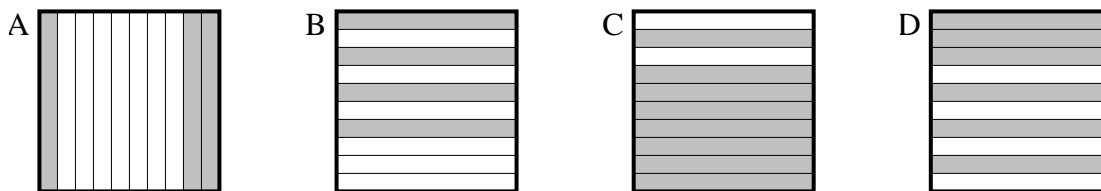
5. _____

6. _____

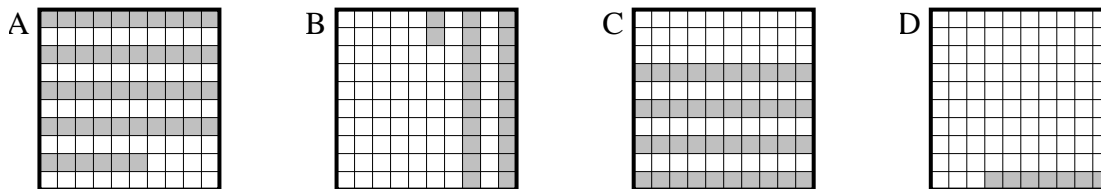


Choisir la réponse la plus appropriée.

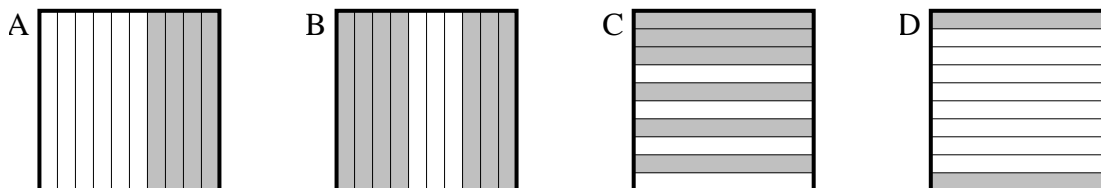
1) Quelle grille de 10×1 cases, où le nombre de cases colorées permette, lorsqu'il est ajouté à 0.4, donne un résultat de 1,00?



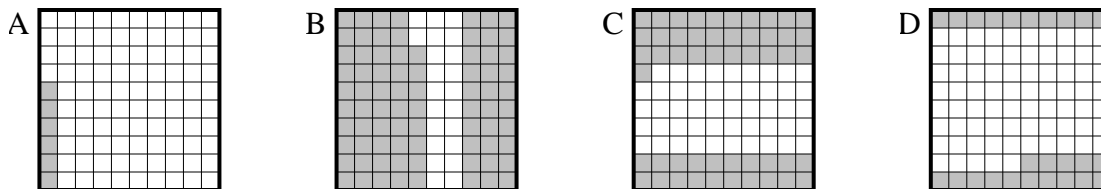
2) Quelle grille de 10×10 cases, où le nombre de cases colorées permette, lorsqu'il est ajouté à 0.93, donne un résultat de 1,00?



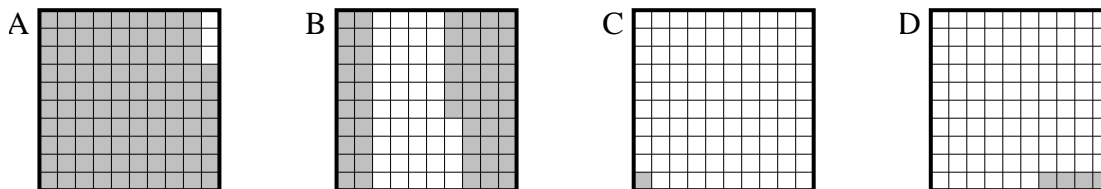
3) Quelle grille de 10×1 cases, où le nombre de cases colorées permette, lorsqu'il est ajouté à 0.8, donne un résultat de 1,00?



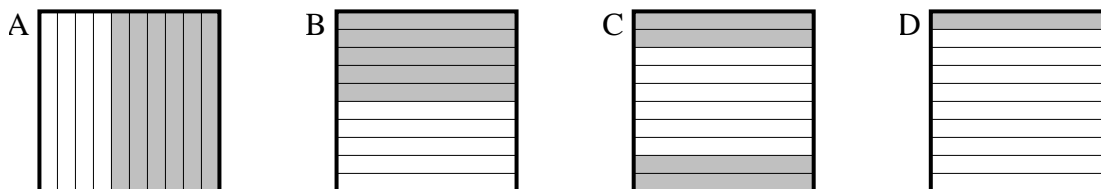
4) Quelle grille de 10×10 cases, où le nombre de cases colorées permette, lorsqu'il est ajouté à 0.94, donne un résultat de 1,00?



5) Quelle grille de 10×10 cases, où le nombre de cases colorées permette, lorsqu'il est ajouté à 0.96, donne un résultat de 1,00?



6) Quelle grille de 10×1 cases, où le nombre de cases colorées permette, lorsqu'il est ajouté à 0.6, donne un résultat de 1,00?



Réponses

1. **D**

2. **D**

3. **D**

4. **A**

5. **D**

6. **C**