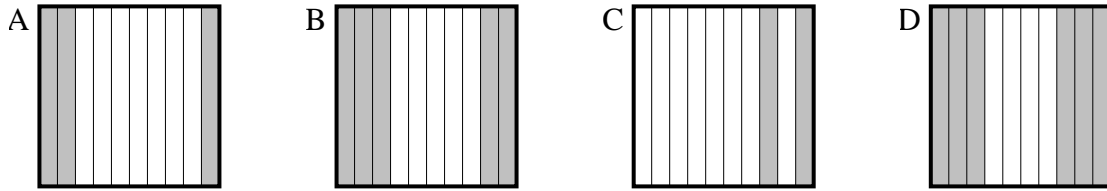


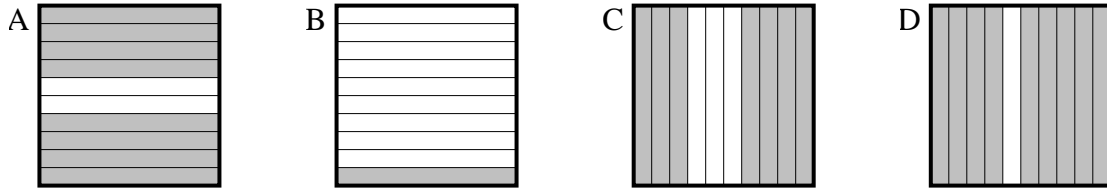


Choisir la réponse la plus appropriée.

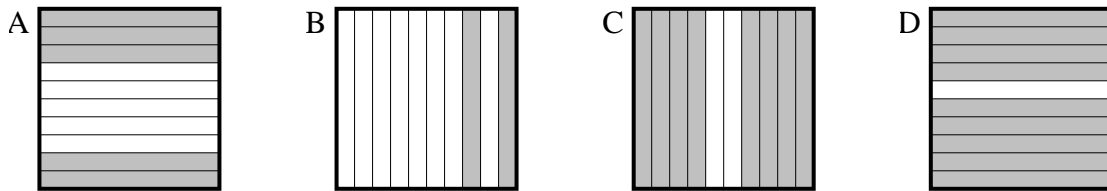
1) Quelle grille de 10×1 cases, où le nombre de cases colorées permette, lorsqu'il est ajouté à 0.7, donne un résultat de 1,00?



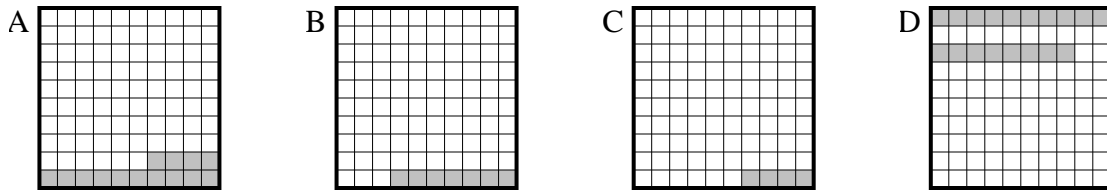
2) Quelle grille de 10×1 cases, où le nombre de cases colorées permette, lorsqu'il est ajouté à 0.3, donne un résultat de 1,00?



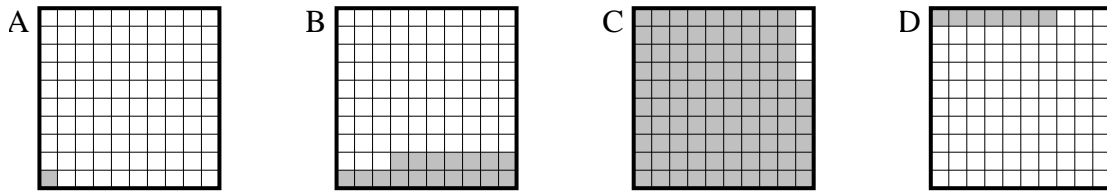
3) Quelle grille de 10×1 cases, où le nombre de cases colorées permette, lorsqu'il est ajouté à 0.2, donne un résultat de 1,00?



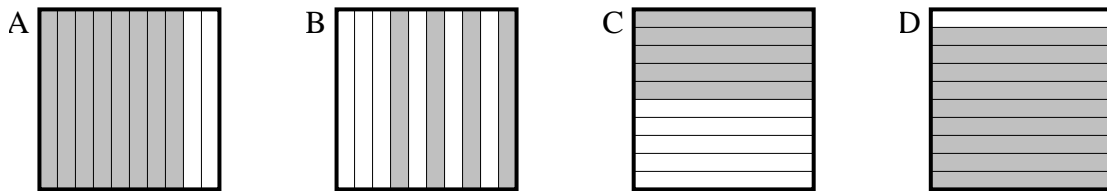
4) Quelle grille de 10×10 cases, où le nombre de cases colorées permette, lorsqu'il est ajouté à 0.93, donne un résultat de 1,00?



5) Quelle grille de 10×10 cases, où le nombre de cases colorées permette, lorsqu'il est ajouté à 0.99, donne un résultat de 1,00?



6) Quelle grille de 10×1 cases, où le nombre de cases colorées permette, lorsqu'il est ajouté à 0.5, donne un résultat de 1,00?



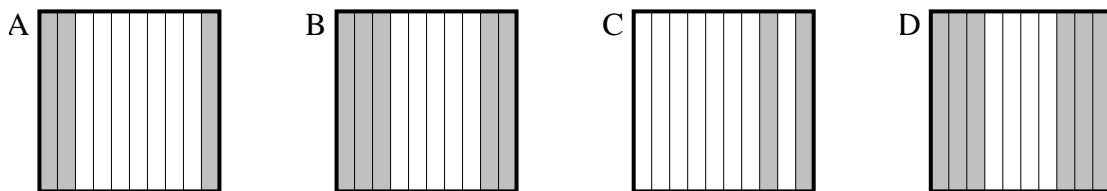
Réponses

- 1. _____
- 2. _____
- 3. _____
- 4. _____
- 5. _____
- 6. _____

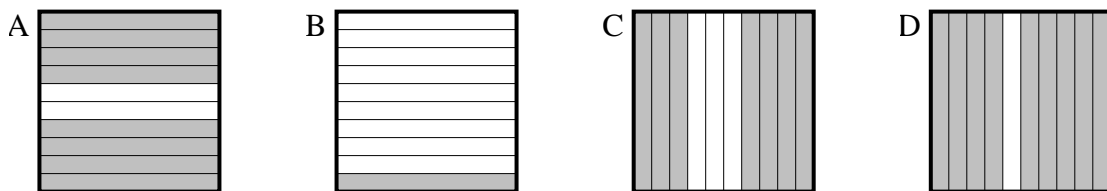


Choisir la réponse la plus appropriée.

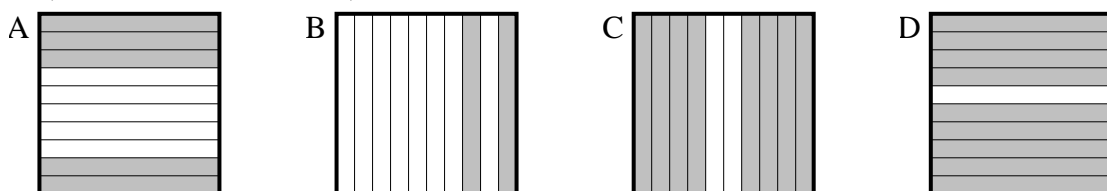
1) Quelle grille de 10×1 cases, où le nombre de cases colorées permette, lorsqu'il est ajouté à 0.7, donne un résultat de 1,00?



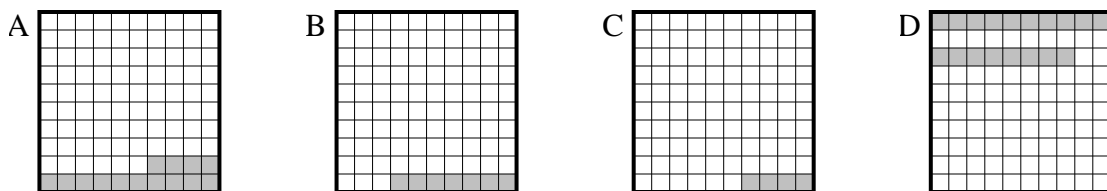
2) Quelle grille de 10×1 cases, où le nombre de cases colorées permette, lorsqu'il est ajouté à 0.3, donne un résultat de 1,00?



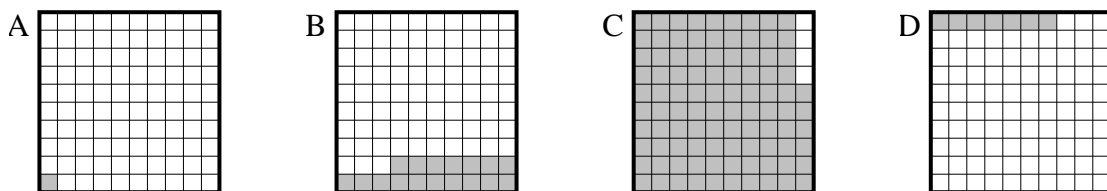
3) Quelle grille de 10×1 cases, où le nombre de cases colorées permette, lorsqu'il est ajouté à 0.2, donne un résultat de 1,00?



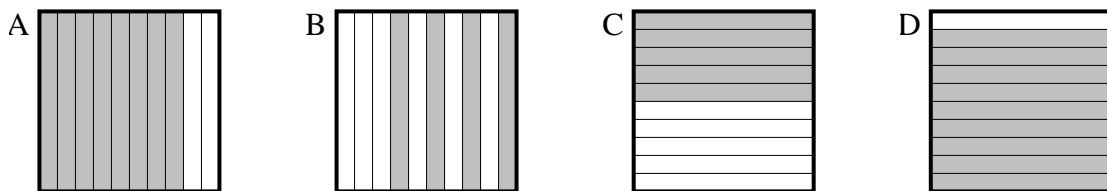
4) Quelle grille de 10×10 cases, où le nombre de cases colorées permette, lorsqu'il est ajouté à 0.93, donne un résultat de 1,00?



5) Quelle grille de 10×10 cases, où le nombre de cases colorées permette, lorsqu'il est ajouté à 0.99, donne un résultat de 1,00?



6) Quelle grille de 10×1 cases, où le nombre de cases colorées permette, lorsqu'il est ajouté à 0.5, donne un résultat de 1,00?



Réponses

1. **A**

2. **C**

3. **C**

4. **B**

5. **A**

6. **C**