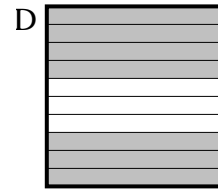
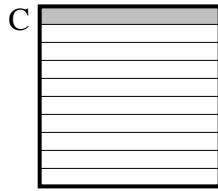
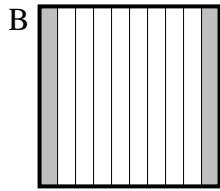
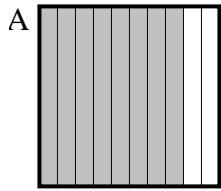


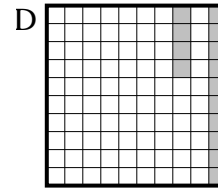
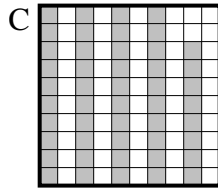
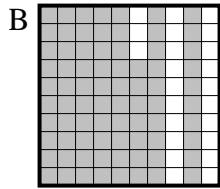
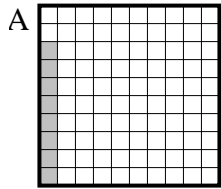


Choisir la réponse la plus appropriée.

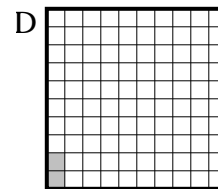
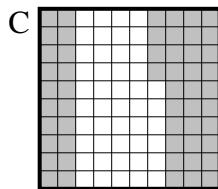
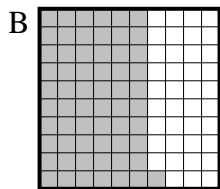
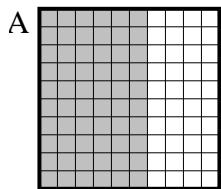
1) Quelle grille de 10×1 cases, où le nombre de cases colorées permette, lorsqu'il est ajouté à 0.3, donne un résultat de 1,00?



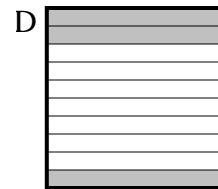

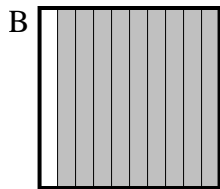
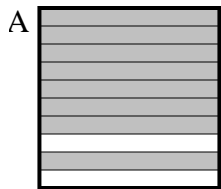
2) Quelle grille de 10×10 cases, où le nombre de cases colorées permette, lorsqu'il est ajouté à 0.92, donne un résultat de 1,00?



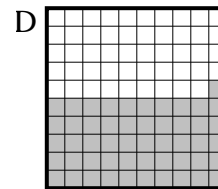
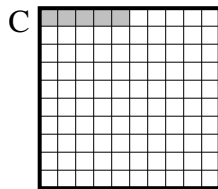
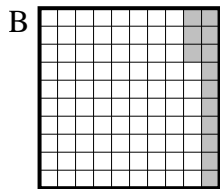
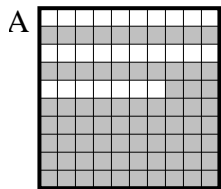
3) Quelle grille de 10×10 cases, où le nombre de cases colorées permette, lorsqu'il est ajouté à 0.98, donne un résultat de 1,00?




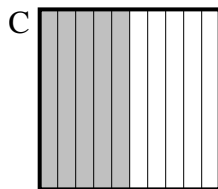
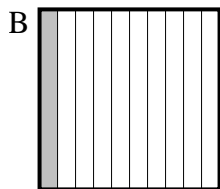
4) Quelle grille de 10×1 cases, où le nombre de cases colorées permette, lorsqu'il est ajouté à 0.9, donne un résultat de 1,00?



5) Quelle grille de 10×10 cases, où le nombre de cases colorées permette, lorsqu'il est ajouté à 0.95, donne un résultat de 1,00?



6) Quelle grille de 10×1 cases, où le nombre de cases colorées permette, lorsqu'il est ajouté à 0.4, donne un résultat de 1,00?



Réponses

1. _____

2. _____

3. _____

4. _____

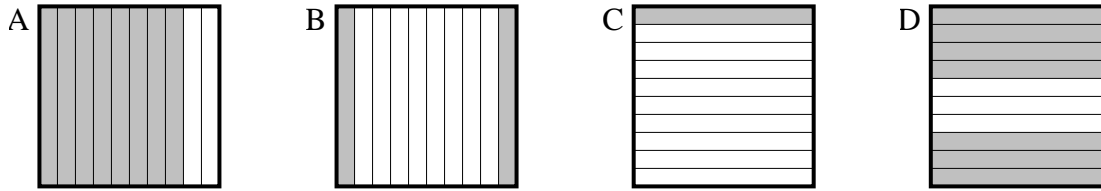
5. _____

6. _____

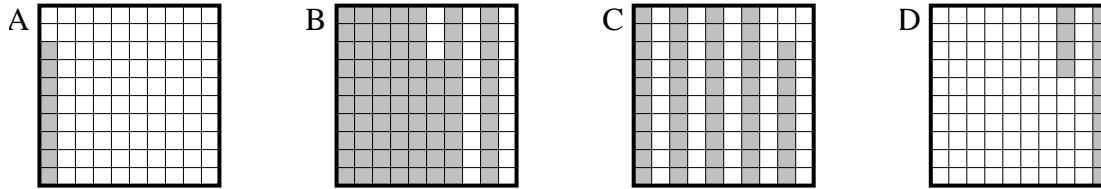


Choisir la réponse la plus appropriée.

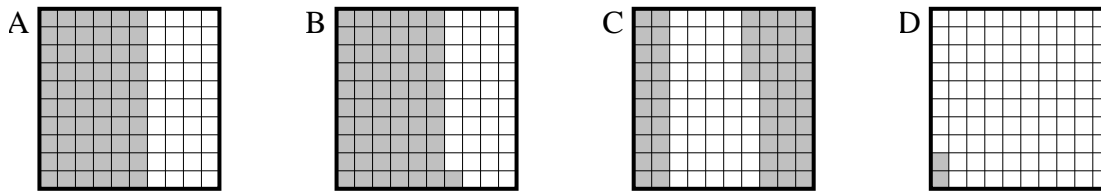
1) Quelle grille de 10×1 cases, où le nombre de cases colorées permette, lorsqu'il est ajouté à 0,3, donne un résultat de 1,00?



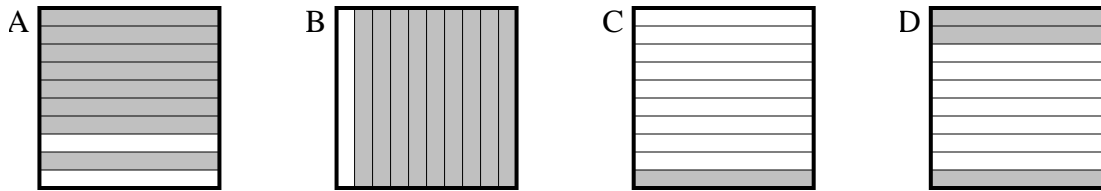
2) Quelle grille de 10×10 cases, où le nombre de cases colorées permette, lorsqu'il est ajouté à 0,92, donne un résultat de 1,00?



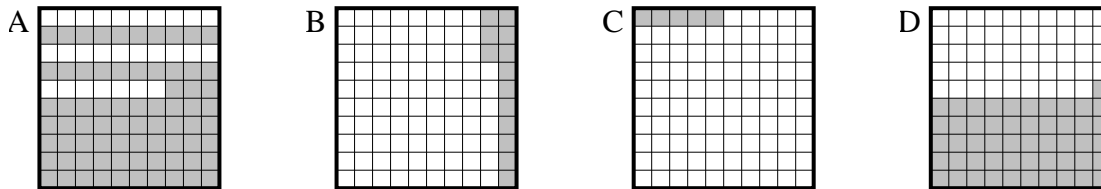
3) Quelle grille de 10×10 cases, où le nombre de cases colorées permette, lorsqu'il est ajouté à 0,98, donne un résultat de 1,00?



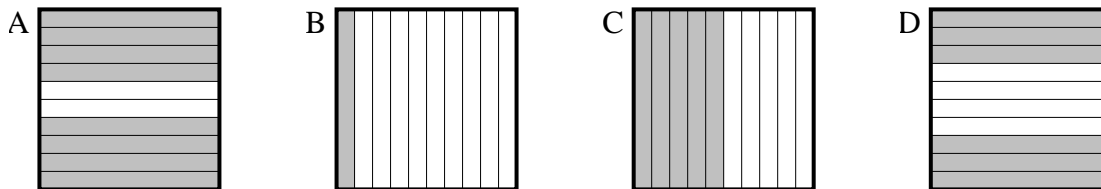
4) Quelle grille de 10×1 cases, où le nombre de cases colorées permette, lorsqu'il est ajouté à 0,9, donne un résultat de 1,00?



5) Quelle grille de 10×10 cases, où le nombre de cases colorées permette, lorsqu'il est ajouté à 0,95, donne un résultat de 1,00?



6) Quelle grille de 10×1 cases, où le nombre de cases colorées permette, lorsqu'il est ajouté à 0,4, donne un résultat de 1,00?



Réponses

1. **D**
2. **A**
3. **D**
4. **C**
5. **C**
6. **D**